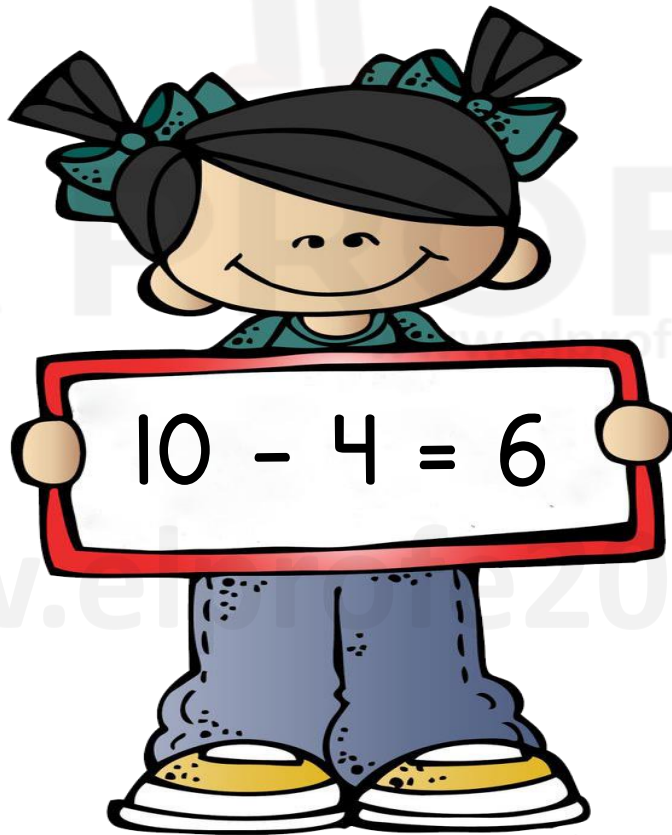




EL PROFE

Cuadernillo

**Problemas matemáticos
de restas**



Material Gratuito

www.elprofe20.com

Nombre: _____



EL PROFE

Problemas matemáticos restas

Lee y resuelve los siguientes problemas.

1. Hay 65 casas en una calle. 32 casas han sido pintadas de amarillo. ¿Cuántas casas no han sido pintadas?

Datos

Operación



Resultado

2. De 2345 niños del pueblo, 1986 van a la escuela. ¿Cuántos niños no van a la escuela?

Datos

Operación



Resultado

Nombre: _____



EL PROFE

Problemas matemáticos restas

Lee y resuelve los siguientes problemas.

3. Juan tiene 145 canicas en su colección; le dio 65 canicas a su mejor amigo Pedro. ¿Cuántas canicas le quedan a Juan?

Datos

Operación



Resultado

4. A inicio de mes tenía \$1300 en mi cuenta de banco. De los cuales utilice \$439 para comprar un regalo. ¿Cuánto dinero me queda en mi cuenta de banco?

Datos

Operación



Resultado

Nombre: _____



EL PROFE


Problemas matemáticos restas

Lee y resuelve los siguientes problemas.

5. Lorena compró 3 almohadas por \$125. Ella le dio al vendedor \$160. ¿Qué cantidad le tiene que devolver el vendedor a Lorena?

Datos

Operación



Resultado

6. 1349 estudiantes acudieron a la Escuela a dar una prueba. De los cuales 1231 aprobaron. ¿Cuántos estudiantes no aprobaron?

Datos

Operación



Resultado

Nombre: _____



EL PROFE

Problemas matemáticos restas

Lee y resuelve los siguientes problemas.

7. Cindy fue a comprar 568 panes. Solo consiguió 324 panes en la panadería. ¿Cuántos panes más tiene que comprar?

Datos

Operación



Resultado

8. Había 540 libros en la biblioteca. De los cuales se han perdido 329 libros. ¿Cuántos libros quedan en la biblioteca?

Datos

Operación



Resultado

Nombre: _____



EL PROFE

Problemas matemáticos restas

Lee y resuelve los siguientes problemas.

9. Julián tardó 300 minutos en completar la tarea de inglés y matemáticas. Le tomó 168 minutos completar la tarea de inglés. ¿Cuánto tiempo tardó en completar la de Matemáticas?

Datos

Operación



Resultado

10. En la granja de Rosa hay 144 Vacas y en la de Javier hay 101. ¿Cuántas Vacas hay en la granja de Javier menos que en la de Rosa?

Datos

Operación



Resultado

Nombre: _____



EL PROFE

Problemas matemáticos restas

Lee y resuelve los siguientes problemas.

11. En la nevera de Paulina había 24 manzanas. Su hija Sofía se comió 3, su hijo Roberto se comió 2 manzanas más que Sofía y Paulina se comió el doble que de Roberto y Sofía. ¿Cuántas manzanas quedan en la nevera?

Datos

Operación



Resultado

12. Durante un programa de vacunación por el Covid19 en la ciudad de Palo Alto de 129405 niños, se vacunaron solo 99389 niños. ¿Cuántos niños quedan por vacunar?

Datos

Operación



Resultado

Nombre: _____



EL PROFE


Problemas matemáticos restas

Lee y resuelve los siguientes problemas.

13. El costo de un televisor es \$589 y el de una lavadora es \$432.
¿Cuánto más cuesta la televisión que la lavadora?

Datos

Operación



Resultado

14. La diferencia entre dos números es 1408. Si el número mayor es 8367, encuentra el menor.

Datos

Operación

Resultado

Nombre: _____



EL PROFE

Problemas matemáticos restas

Lee y resuelve los siguientes problemas.

15. Matilde logro alcanzar 230 puntos con todas sus calificaciones pero pasa de curso con 500 puntos. ¿Cuántos puntos le hace falta para poder pasar de curso?

Datos

Operación



Resultado

16. Augusto quiere ganarse un premio por recolectar 980 estampillas, pero en todo el año ha logrado reunir solo 458 estampillas. ¿Cuántas estampillas le hace falta para poder ganarse el premio?

Datos

Operación



Resultado

Nombre: _____



EL PROFE

Problemas matemáticos restas

Lee y resuelve los siguientes problemas.

17. Había 98 autos en el concesionario de automóviles, de los cuales el mes de junio se vendieron 12 y el mes de Julio 23. ¿Cuántos autos quedan por vender?

Datos

Operación



Resultado

18. Hay 45 familias de aves que viven cerca de la montaña. Si 23 familias de aves volaron para el invierno, ¿Cuántas familias de aves quedaron cerca de la montaña?

Datos

Operación



Resultado

Nombre: _____



EL PROFE

Problemas matemáticos restas

Lee y resuelve los siguientes problemas.

19. Pedro se compró una mesa y una silla gamer. La mesa le costó \$180 y la silla gamer \$250, a Pedro del total de dinero que tenía le sobro solo \$45 y necesita comprar un monitor de \$145. ¿Cuánto dinero le hace falta para poder comprarlo?

Datos

Operación



Resultado

20. Darío en su cumpleaños al soplar las 12 velas que estaban en la torta solo se apagaron 7. ¿Cuántas velas no se apagaron?

Datos

Operación



Resultado