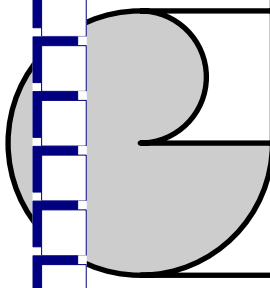
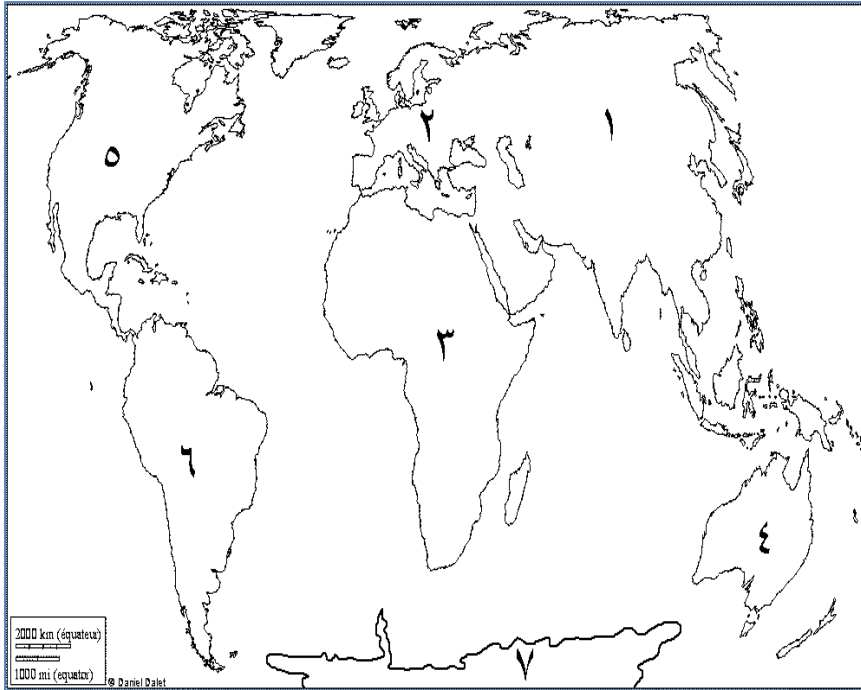


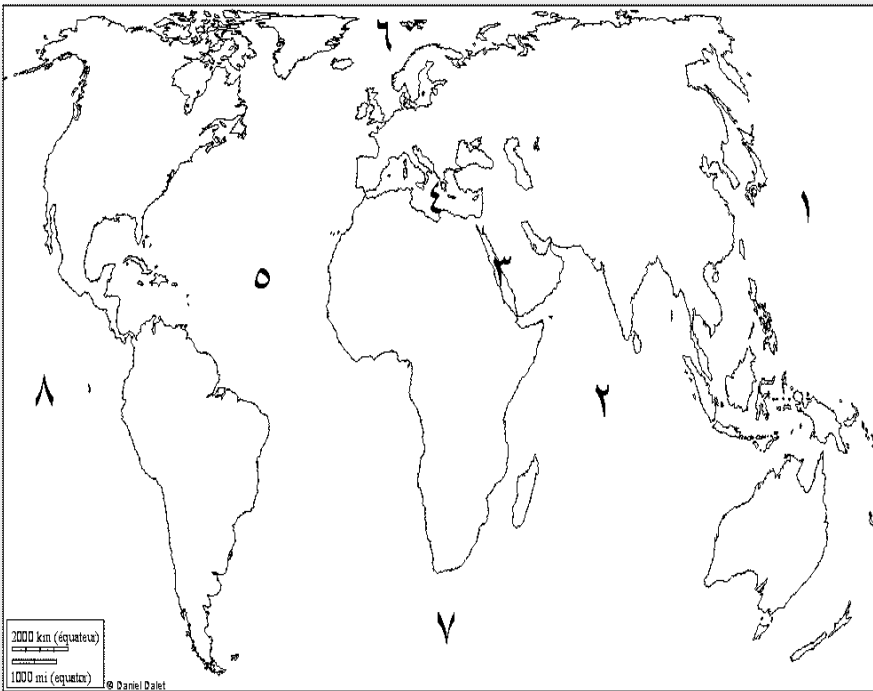
سلسلة المؤرخ
مراجعته ليلة الامتحان
في
الدراسات الاجتماعية
للصف / الاول الاعدادي
اعداد / مصطفى عاطف
٠١٠١٥٨٧١٩٠٦



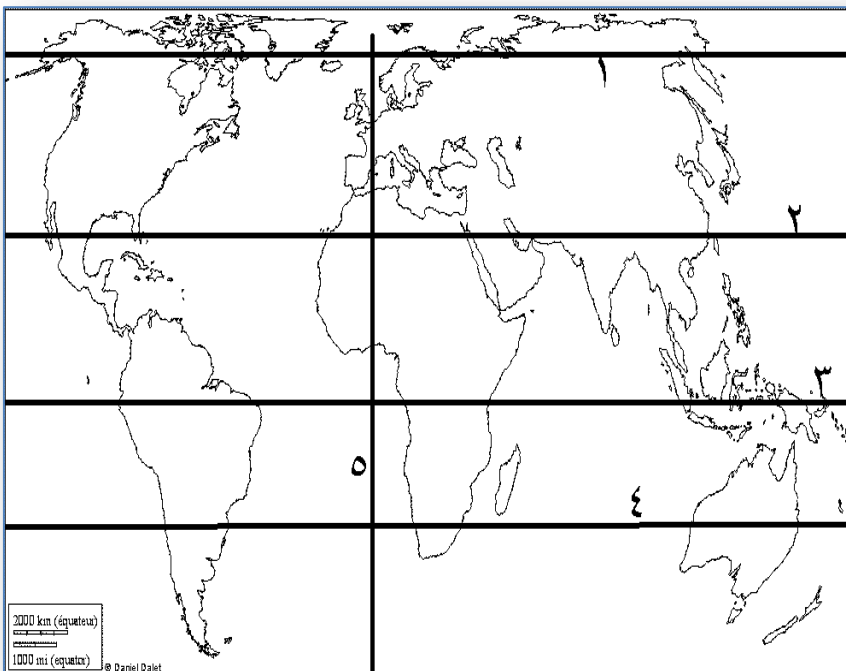
السؤال الاول :

أمامك خريطة العالم أكتب مدلول الأرقام :

- ١- قارة
- ٢- قارة
- ٣- قارة
- ٤- قارة
- ٥- قارة
- ٦- قارة
- ٧- قارة

أمامك خريطة العالم أكتب مدلول الأرقام :

- ١- المحيط
- ٢- المحيط
- ٣- البحر
- ٤- البحر
- ٥- المحيط
- ٦- المحيط
- ٧- المحيط
- ٨- المحيط

..أمامك خريطة العالم أكتب مدلول الأرقام :

- ١- دائرة عرض
- ٢- دائرة عرض
- ٣- دائرة عرض
- ٤- دائرة عرض
- ٥- خط طول

المراجعة النهائية في الدراسات للصف

امامك خريطة صماء للعالم اجب عليها:-



- ١- منطقة نادرة المطر.....
- ٢- منطقة غزيرة المطر.....
- ٣- منطقة متوسطة المطر.....
- ٤- منطقة زلازل.....
- ٥- منطقة براكين.....

امامك خريطة العالم :

١- إقليم مناخى

.....

٢- إقليم مناخى

.....

٣- إقليم مناخى

.....

٤- إقليم مناخى

.....

أمامك خريطة العالم :

١- إقليم مناخى

.....

٢- إقليم مناخى

.....

٣- إقليم مناخى

.....

أمامك خريطة العالم :

١- إقليم مناخى

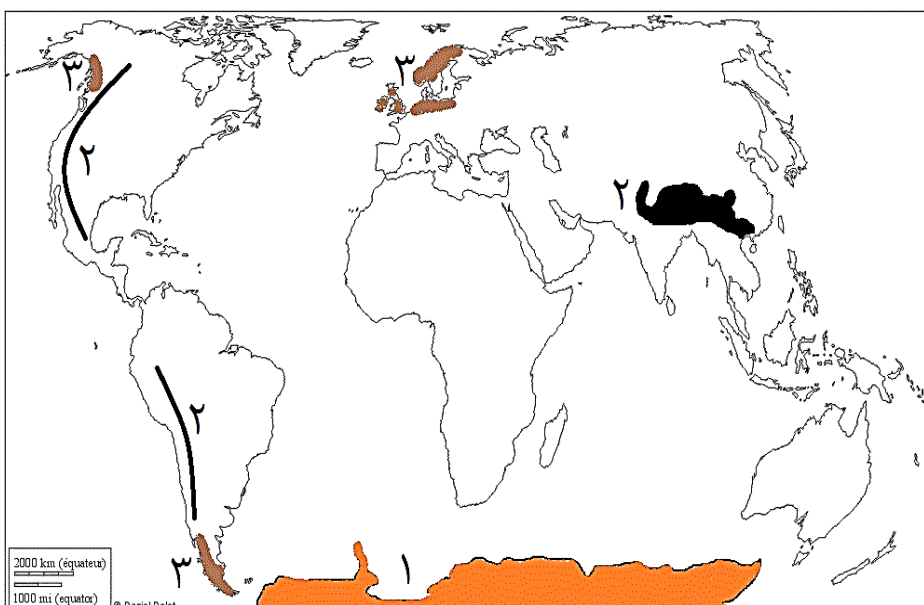
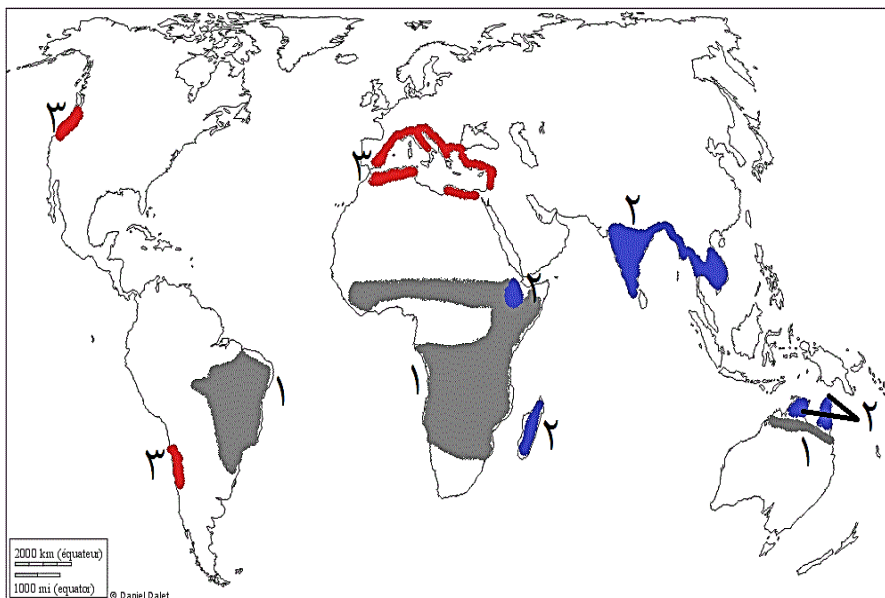
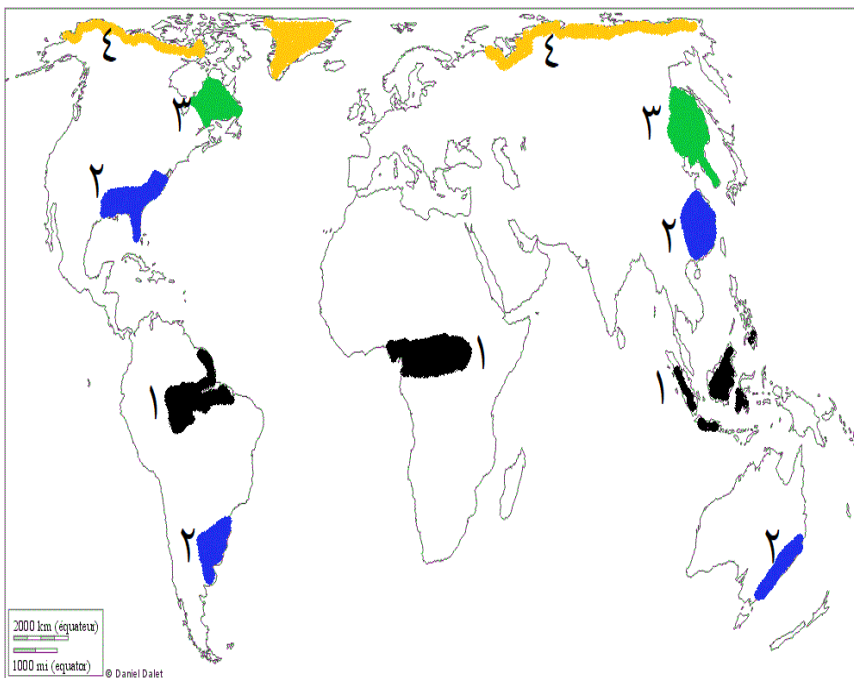
.....

٢- إقليم مناخى

.....

٣- إقليم مناخى

.....



:- اكمل العبارات الآتية:-

- ١- تعد اهم عناصر المناخ
- ٢- ترتفع درجة الحرارة كلما اقتربا من.....
- ٣- تصبح اشعه الشمس عموديه عند.....
- ٤- تتراكم الثلوج في افريقيا فوق جبال.....
- ٥- من انواع الرياح الدائمه.....،.....
- ٦- تعمل الرياح..... علي تلطيف درجة الحرارة لانها قادمة من جهات اقل حرارة
- ٧- تهب الرياح..... من منطقه ضغط مرتفع عند دائرة ٣٠ شمالا وجنوبا الي ضغط منخفض عند الدائرتين القطبيتين
- ٨- من انواع الرياح الموسمييه.....،.....
- ٩- من انواع الرياح المحليه.....،.....
- ١٠- الرياح الموسمييه..... رياح جافه
- ١١- الرياح الموسمييه..... رياح ممطرة
- ١٢- رياح تهب علي مصر في فصل الربيع
- ١٣- يحدث..... نتيجة اختلاف درجات حرارة اليابس والماء
- ١٤- تسقط امطار..... عندما تصطدم الرياح بالجبال
- ١٥- تسقط امطار بسبب تقابل الهواء البارد مع الساخن
- ١٦- من المناطق غزيرة المطر..... بينما المناطق متوسطه المطر.....
- ١٧- المنطقه الاستوائية ذات مطر.....
- ١٨- رياح تهب بانتظام طوال العام هي.....
- ١٩- من امثله الرياح التي تهب علي السودان.....
- ٢٠- يقع اقليم..... جنوب شرق اسيا
- ٢١- اقليم مناخي تعتبر امطاره من النوع التصاعدي
- ٢٢- اقليم مناخي..... حار جاف صيفا دافئ ممطر شتا
- ٢٣- من امثله الاقاليم المناخيه المتعدله البارد.....،.....
- ٢٤- اقليم مناخي..... يقع في نطاق الرياح العكسيه الغربيه
- ٢٥- يوجد اقليم..... غرب الامريكتين ووسط اسيا
- ٢٦- تكاد تنعدم الامطار في الاقليم المناخي.....
- ٢٧- تهب الرياح..... علي اقليم غرب اوربا
- ٢٨- تسقط الامطار طوال العام في الاقليم.....،.....،.....

- ٢٩- من اشجار الغابات الاستوائية.....،.....
- ٣٠- تنمو حيوانات القرده والطيور الملونه في اقليم.....
- ٣١- غاباتتنمو في السهول والاوديه
- ٣٢- تنمو اشجار الزان والبلوط ضمن غابات.....
- ٣٣- من اهم اشجار البحر المتوسط.....،.....
- ٣٤- السناجب والقطط اهم حيوانات الغابات.....
- ٣٥- تنمو حشائش.....ضمن شمال وجنوب الغابات الاستوائية
- ٣٦- من انواع الغابات في العالم.....،.....
- ٣٧- تنمو الغابات النفسيه في المناطق.....
- ٣٨- تنمو الحشائش المعتدله.....القارات
- ٣٩- يقاس شدة الزلازل ب.....
- ٤٠- يؤدي وجود ضغط علي القشرة الارضية الي حدوث.....
- ٤١- يكثر حدوث الزلازل علي طول السلاسل الجبلية الالتوائية في قارتي.....،.....
- ٤٢- يتركز ٧٥% من براكين العالم النشطه حول سواحل المحيط.....
- ٤٣- ينتج عن حدوث الفيضانات انتشار.....بسبب تلوث المياه
- ٤٤- زال خطر الفيضان عن مصر بعد بناء.....
- ٤٥- الاعاصير عواصف هوائية عنيفه تنشأ عاده فوق المحيطات بالمنطقه.....
- ٤٦- من الاخطار التي تتعرض لها الولايات المتحده اعصار.....

ضع علامه (صح) او علامه (خطأ)

- ١- يصف الطقس حاله الجو في فترة زميه طويله ()
- ٢- الفرق بين المناخ والطقس الفترة الزمنيه ()
- ٣- الحرارة اهم عناصر المناخ ()
- ٤- من العوامل التي تؤثر في درجه الحرارة الغطاء النباتي ()
- ٥- ترتفع درجه الحرارة كلما ابتعدنا عن دائرة الاستواء ()
- ٦- تتميز المناطق القريبه من المسطحات المائية باعتدال المناخ صيفا ودفئها شتاء ()
- ٧- درجه الحرارة فوق قمه الجبل تكون اعلي من درجه الحرارة عند سفحه ()
- ٨- ترتفع درجه الحرارة في المناطق التي تكسوها الغابات عن المناطق المكشوفه ()
- ٩- تنخفض درجه الحرارة كلما قصر النهار ()
- ١٠- العلاقه بين الضغط الجوي والحرارة عكسيه ()

- ١١- نستطيع التطرف علي حاله المناخ يوميا من خلال النشرة الجويه ()
- ١٢- يؤدي اختلاف المناخ الي تنوع اشكال الحياه علي سطح الارض ()
- ١٣- يتشابه الطقس والمناخ في العناصر المكونه لها ()
- ١٤- تتشابه درجه الحرارة علي سطح الارض لان مصدرها واحد هو الشمس ()
- ١٥- ترتفع درجه الحرارة عند دائرة الاستواء لان الشمس تكون عموديه ()
- ١٦- تغطي الثلوج قمم جبال كينيا رغم وقوعه في المنطقه المدارية الحارة ()
- ١٧- تتميز المناطق القريبه من المسطحات المائية بالبروده الشديده ()
- ١٨- تعد الرياح القطبيه من انواع الرياح الموسميه ()
- ١٩- تعتبر رياح الخماسين من امثله الرياح الدائمه التي تهب علي مصر ()
- ٢٠- تتقابل الرياح العكسيه مع الرياح القطبيه عند الدائرتين القطبيتين الشماليه والجنوبيه ()
- ٢١- تهب الرياح المحليه نتيجة اختلاف الضغط الجوي في مناطق واسعه من سطح الارض ()
- ٢٢- يسقط المطر التصاعدي علي المنطقه القطبيه ()
- ٢٣- تتميز الصحراء الكبرى بانها من المناطق غزيرة المطر ()
- ٢٤- قد تتشابه درجه الحرارة في منطقتين مختلفتين في الموقع بالنسبة لدوائر العرض ()
- ٢٥- يقع الاقليم الاستوائي وشبه الاستوائي شرق القارات ()
- ٢٦- يرتبط تقسيم العالم الي اقاليم مناخيه بالموقع بالنسبه لدوائر العرض ()
- ٢٧- تنوع الاقاليم المناخيه يؤدي الي تنوع صور الحياه علي سطح الارض ()
- ٢٨- يقع اقليم المناخ الاستوائي بين دائرة عرض ١٠ شمالا وجنوبا ()
- ٢٩- يقع الاقليم الموسمي جنوب شرق اسيا ()
- ٣٠- يعد الاقليم الاستوائي وشبه الاستوائي ضمن ضمن الاقاليم المعتدله الدفيئة ()
- ٣١- امطار الاقليم الاستوائي من النوع التصاعدي ()
- ٣٢- تمتد الاقاليم المناخيه المعتدله الدفيئة بين دائرتي عرض ٣٠.٤٥ شمالا وجنوبا ()
- ٣٣- تسقط الامطار طوال العام في الاقليم الموسمي ()
- ٣٤- يتميز اقليم البحر المتوسط بانه حار جاف صيفا دافئ ممطر شتاء ()
- ٣٥- يمتد الاقليم المناخي الصحراوي المعتدل غرب القارات ()
- ٣٦- يعتبر الاقليم المناخ الجبلي من الاقاليم المناخيه المعتدله الباردة ()
- ٣٧- يوجد الاقليم المناخ الجبلي في شرق قارة امريكا الشماليه ()
- ٣٨- تعد سواحل مصر الشماليه والشرقيه ضمن اقليم مناخ البحر المتوسط ()
- ٣٩- تضم قارة اسيا معظم الاقاليم المناخيه ()
- ٤٠- تنتمو الغابات الموسميه بالقرب من دائرة الاستواء ()

- ٤١- تحافظ الغابات علي نسبة الاكسجين في الهواء ()
- ٤٢- تنمو الحشائش المعتدله في فصل الصيف القصير وتموت في فصل الشتاء ()
- ٤٣- يعد الفلين من اهم اشجار الغابات الصنوبرية ()
- ٤٤- تعيش الوعول والجرذان والكثير من الزواحف في شمال افريقيا بالصحراء الكبرى ()
- ٤٥- تعتبر الاستبس حديقته حيوان طبيعيه ()
- ٤٦- من النباتات الصحراوية التي لها القدرة علي تخزين المياه النخيل ()
- ٤٧- تحدث الاخطار البيئية نتيجة عوامل طبيعيه دون تدخل الانسان فيها ()
- ٤٨- هناك اخطار طبيعيه تحافظ علي بقاء الحياه علي كوكب الارض ()
- ٤٩- تمثل اخطار باطن الارض في الاعاصير والزلازل ()
- ٥٠- من اسباب حدوث الزلازل تحرك المواد المنصهرة في باطن الارض ()
- ٥١- تقاس شدة الزلازل بمقياس فيجنز ()
- ٥٢- تختلف انواع الزلازل حسب قوتها ()
- ٥٣- يشعر الانسان بحدوث كل انواع الزلازل ()
- ٥٤- تعرف الموجات البحرية الزلزالية بتسونامي ()
- ٥٥- يرتبط حدوث البراكين بمناطق ضعف القشرة الارضية ()
- ٥٦- تحدث البراكين في كثير من المناطق منها شرق افريقيا وجنوب اوربا ()
- ٥٧- تقع جزر هاواي في المحيط الاطلنطي ضمن نطاق البراكين ()
- ٥٨- تقع البراكين اما علي حافات احواض البحار او المحيطات ()
- ٥٩- يتركز معظم البراكين في العالم في اكبر المحيطات مساحه ()
- ٦٠- من الاثار السلبيه للبراكين تلوث مصادر المياه ()
- ٦١- تزيد البراكين من خصوبه التربه ()
- ٦٢- تؤدي السيول الي حدوث الفيضانات ()
- ٦٣- الانهيارات الجليديه من اخطار المياه ()
- ٦٤- انهيار السدود من الاسباب التي تؤدي الي حدوث الاعاصير ()
- ٦٥- تؤدي الاعاصير الي الاضرار بالاقتصاد كما حدث في الولايات المتحده الامريكيه ()
- ٦٦- كلما زادت قوه الفيضان زادت سرعه جريان المياه ()
- ٦٧- تقام السدود في مناطق الوديان الجافه لمواجهة خطر السيول ()
- ٦٨- تدخل الانسان في الطبيعه سلاح زو حدين ()
- ٦٩- تعتبر ملوحه الترعرع نوع من انواع التصحر ()
- ٧٠- الاستغلال المفرط في الارض الزراعيه من اسباب قله الانتاج ()

- ٧١- تعد الغابات جزء لا يتجزأ من النظام البيئي وتحافظ علي استقراره ()
- ٧٢- يؤدي البرق والصواعق الي حرائق الغابات ()
- ٧٣- يعد الاحتباس الحراري احد الاخطار الطبيعيه التي لا دخل للانسان فيها ()

اختر الاجابه الصحيحه مما بين الاقواس:-

١- المناخ هو متوسط حالة الجو في فترة زمنية..... من حيث الحرارة والضغط الجوي والرياح والامطار.

١- قصيرة. ٢- يومية. ٣- طويلة. ٤- اسبوعية

٢- هو وصف حالة الجو في فترة زمنية قصيرة قد تكون يوم او يومين او اسبوع من حيث الحرارة والضغط الجوي والرياح والامطار.

١- الطقس. ٢- المناخ. ٣- الاحتباس الحراري. ٤- الرطوبة.

٣- الفرق بين الطقس والمناخ يتمثل في

١- كمية المطر. ٢- درجة الحرارة. ٣- الفترة الزمنية. ٤- الموقع.

٤- تعد..... اهم عناصر المناخ.

١- الحرارة. ٢- الضغط الجوي. ٣- الامطار. ٤- الرياح.

٥- تعد.....عنصر من عناصر المناخ المؤثر في باقية العناصر.

١- الحرارة. ٢- الضغط الجوي. ٣- الامطار. ٤- الرياح.

٦- تعد..... المصدر الوحيد للضوء والحرارة علي سطح الارض.

١- النيازك. ٢- الاقمار. ٣- الشمس. ٤- السدم.

٧- درجة الحرارة كلما اقتربنا من دائرة الاستواء.

١- تنخفض. ٢- ترتفع. ٣- تثبت. ٤- تقل.

٨- كلما ابتعدنا عن دائرة الاستواء تكون اشعة الشمس.....

١- مائلة. ٢- عمودية. ٣- ثابتة. ٤- مستقيمة.

٩- يقع جبل كينيا في قارة.....

١- اسيا. ٢- افريقيا. ٣- استراليا. ٤- اوروبا.

١٠- تغطي الثلوج قمة جبل كينيا رغم وقوعه في المنطقة.....

١- المعتدلة الباردة. ٢- الباردة. ٣- المعتدلة الدفينة. ٤- المدارية الحارة.

١١- تقل درجة الحرارة درجة واحدة مئوية كلما ارتفعنا عن مستوي سطح..... ١٥٠ مترا.

١- الارض. ٢- الجبل. ٣- البحر. ٤- اليابس.

١٢- ترتفع درجة الحرارة عند دائرة الاستواء لان اشعة الشمس تكون.....

- ١- مائلة. ٢- عمودية. ٣- ثابتة. ٤- منحرفة.
- ١٣- تتميز المناطق القريبة من المسطحات المائية شتاءآ.
 - ١- البرودة. ٢- بارتفاع الحرارة. ٣- الدفئ. ٤- الاعتدال.
- ١٤- تتميز المناطق القريبة من المسطحات المائية صيفآ.
 - ١- البرودة. ٢- بارتفاع الحرارة. ٣- الدفئ. ٤- الاعتدال.
- ١٥- تعمل علي تلطيف درجة حرارة المناطق القريبة منها صيفا وشتاء.
 - ١- دوائر العرض. ٢- التضاريس. ٣- المياه. ٤- طول وقصر النهار.
- ١٦- يمنع اشعة الشمس من الوصول مباشرة لسطح الارض.
 - ١- الغطاء النباتي. ٢- التضاريس. ٣- المسطحات المائية. ٤-
- ١٧- المناطق المكشوفة التي ليس بها غطاء نباتي بها درجة الحرارة.
 - ١- تنخفض. ٢- ترتفع. ٣- تثبت. ٤- تتغير.
- ١٨- يطول النهار في فصل.....
 - ١- الصيف. ٢- الخريف. ٣- الشتاء. ٤- الربيع.
- ١٩- درجة الحرارة بالغابات والمناطق المزروعة (مناطق الغطاء النباتي).
 - ١- تنخفض. ٢- ترتفع. ٣- تثبت. ٤- تقل.
- ٢٠- تتلقي الارض كمية قليلة من اشعة الشمس في فصل.....
 - ١- الصيف. ٢- الخريف. ٣- الشتاء. ٤- الربيع.
- ٢١- يقصر النهار في فصل.....
 - ١- الصيف. ٢- الخريف. ٣- الشتاء. ٤- الربيع.
- ٢٢- تتلقي الارض كمية كبيرة من الاشعاع الشمسي في فصل.....
 - ١- الصيف. ٢- الخريف. ٣- الشتاء. ٤- الربيع.
- ٢٣- العلاقة بين الحرارة والضغط الجوي علاقة
 - ١- طردية. ٢- ثابتة. ٣- عكسية. ٤- غير ثابتة.
- ٢٤- المناطق منخفضة درجة الحرارة ذات ضغط جوي.....
 - ١- منخفض. ٢- ثابت. ٣- مرتفع. ٤- متغير.
- ٢٥- يؤدي اختلاف مناطق الضغط الجوي الي تحرك الهواء حركة.....مناطق الضغط المرتفع الي مناطق الضغط المنخفض.
 - ١- مستقيمة. ٢- عمودية. ٣- رأسية. ٤- أفقية.
- ٢٦- الرياح من انواع الرياح الدائمة.
 - ١- الخماسين. ٢- الهبوب. ٣- التجارية. ٤- الشتوية.

- ٢٧-الرياح التي تهب بانتظام طوال العام من مناطق الضغط المرتفع الي مناطق الضغط المنخفض.
- ١- المحلية. ٢- نسيم البر والبحر. ٣- العكسية. ٤- الموسمية.
- ٢٨- تعمل الرياح..... علي تلطيف درجة الحرارة لقدمها من جهات اقل حرارة.
- ١- الخماسين. ٢- الهبوب. ٣- التجارية. ٤- القطبية.
- ٢٩- تهب الرياح..... من مناطق الضغط المرتفع عند دائرتي عرض ٣٠ شمالا وجنوبا نحو مناطق الضغط المنخفض عند دائرة الاستواء.
- ١- العكسية. ٢- الموسمية. ٣- التجارية. ٤- القطبية.
- ٣٠- تهب الرياح..... من مناطق الضغط المرتفع عند دائرتي عرض ٣٠ شمالا وجنوبا نحو منطقتي الضغط المنخفض عند القطبين.
- ١- العكسية. ٢- الموسمية. ٣- التجارية. ٤- القطبية.
- ٣١- تهب الرياح..... من منطقتي الضغط المرتفع عند القطب الشمالي والقطب الجنوبي نحو الدائرتين القطبيتين الشمالية والجنوبية.
- ١- العكسية. ٢- الموسمية. ٣- التجارية. ٤- القطبية.
- ٣٢- الرياح..... هي التي تغير اتجاهها بين فصلي الصيف والشتاء.
- ١- العكسية. ٢- الموسمية. ٣- المحلية. ٤- القطبية.
- ٣٣- تعمل الرياح علي تدفئة الجو.
- ١- العكسية. ٢- الموسمية. ٣- التجارية. ٤- القطبية.
- ٣٤- كل مما يأتي من انواع الرياح الدائمة ماعدا الرياح.....
- ١- العكسية. ٢- الموسمية. ٣- التجارية. ٤- القطبية.
- ٣٥- الرياح الموسمية التي تسقط امطار تكون في فصل.....، لانها تهب من الماء الي اليابس.
- ١- الصيف. ٢- الخريف. ٣- الشتاء. ٤- الربيع.
- ٣٦- الرياح الموسمية..... هي التي تهب من اليابس الي الماء.
- ١- الصيفية. ٢- الخريفية. ٣- الشتوية. ٤- الربيعية.
- ٣٧- الرياح الموسمية..... هي رياح جافة لانها تهب من اليابس الي الماء.
- ١- الصيفية. ٢- الخريفية. ٣- الشتوية. ٤- الربيعية.
- ٣٨- الرياح..... هي الرياح التي تهب علي مناطق محدودة من سطح الارض.
- ١- العكسية. ٢- الموسمية. ٣- المحلية. ٤- القطبية.
- ٣٩- رياح الخماسين التي تهب علي مصر تهب في فصل.....، وهي رياح محملة بالرمال والارترية.
- ١- الصيف. ٢- الخريف. ٣- الشتاء. ٤- الربيع.
- ٤٠- الرياح المحلية تسمى برياح..... في السودان.

- ١- الخماسين. ٢- الهبوب. ٣- السموم. ٤- الفهن.
- ٤١- اختلاف درجات الحرارة بين اليابس والماء المتجاورين اثناء الليل والنهار يؤدي الي حدوث
 - ١- نسيم البر والجبل. ٢- نسيم الجبل والوادي. ٣- نسيم البر والوادي. ٤-
- ٤٢- يحدث ظاهرة نسيم البر اثناء.....
 - ١- الغروب. ٢- الليل. ٣- النهار. ٤- الشروق.
- ٤٣- تهب الرياح..... باتجاه الضغط المنخفضي الاستوائي.
 - ١- العكسية. ٢- الموسمية. ٣- التجارية. ٤- القطبية.
- ٤٤- من انواع الرياح المحلية.....
 - ١- الرياح التجارية. ٢- الرياح القطبية. ٣- رياح الخماسين. ٤- نسيم البر والبحر.
- ٤٥- تهب الرياح..... من دائرة عرض ٣٠ شمالا متجهة الي الدائرة القطبية الشمالية.
 - ١- العكسية. ٢- الموسمية. ٣- التجارية. ٤- القطبية.
- ٤٦- تهب الرياح القطبية من القطب الجنوبي نحو
 - ١- الدائرة الاستوائية. ٢- الدائرة القطبية الجنوبية. ٣- الدائرة القطبية الشمالية. ٤- دائرة عرض ٣٠ جنوبا.
- ٤٧- تهب الرياح القطبية من منطقتي الضغط المرتفع عند.....
 - ١- الدائرتين القطبيتين. ٢- مدار السرطان. ٣- دائرتي عرض ٣٠ شمالا وجنوبا. ٤- القطبين.
- ٤٨- تهب الرياح العكسية من منطقتي الضغط المرتفع عند.....
 - ١- الدائرتين القطبيتين. ٢- الدائرة الاستوائية. ٣- دائرتي عرض ٣٠ شمالا وجنوبا. ٤- القطبين.
- ٤٩- تهب الرياح التجارية علي مناطق الضغط المنخفض عند.....
 - ١- الدائرتين القطبيتين. ٢- الدائرة الاستوائية. ٣- دائرتي عرض ٣٠ شمالا وجنوبا. ٤- القطبين.
- ٥٠- تسقط الامطار..... علي المنطقة الاستوائية علي شكل مطر غزير.
 - ١- التضاريسية. ٢- الموسمية. ٣- التصاعدية. ٤- الاعصارية.
- ٥١- تسقط الامطار..... نتيجة اصطدام الرياح المحملة ببخار الماء بالجبال.
 - ١- التضاريسية. ٢- الموسمية. ٣- التصاعدية. ٤- الاعصارية.
- ٥٢- تسقط الامطار..... نتيجة تقابل الهواء البارد مع الهواء الساخن النحمل ببخار الماء فيصعد الهواء الساخن لاعلي ويسقط امطار.
 - ١- التضاريسية. ٢- الموسمية. ٣- التصاعدية. ٤- الاعصارية.

المراجعة النهائية في الدراسات للصف الاول الاعدادي اعداد أ / مصطفى عاطف ٠١٠١٥٨٧١٩٠٦

- ٥٣- تسقط الامطار..... نتيجة صعود الهواء الساخن الي طبقات الجو العليا فيبرد الهواء ويتكاثف ما به من بخار الماء ويسقط امطار غزيرة.
- ١- التضاريسية. ٢- الموسمية. ٣- التصاعدية. ٤- الاعصارية.
- ٥٤- يصاحب سقوط الامطار..... برق ورعد.
- ١- التضاريسية. ٢- الموسمية. ٣- التصاعدية. ٤- الاعصارية.
- ٥٥- من المناطق غزيرة الامطار.....
- ١- المناطق الاستوائية (حول دائرة الاستواء). ٢- الساحل الشمالي للبحر المتوسط (اوروبا). ٢- شمال افريقيا. ٤- جنوب شرق اسيا.
- ٥٦- من المناطق متوسطة المطر.....
- ١- المناطق الاستوائية (حول دائرة الاستواء). ٢- الساحل الشمالي للبحر المتوسط. الصحراء الكبرى. ٤- جنوب شرق اسيا.
- ٥٥- من المناطق نادرة المطر.....
- ١- المناطق الاستوائية (حول دائرة الاستواء). ٢- الساحل الشمالي للبحر المتوسط. الصحراء الكبرى. ٤- جنوب شرق اسيا.
- ٥٧- من نتائج افراط الانسان في استخدام التكنولوجيا الحديثة كل مما يأتي ماعدا.....
- ١- ارتفاع درجات الحرارة. ٢- انتشار الجفاف. ٣- انتشار الزلازل. ٤- انتشار الاعاصير.
- ٥٨- قام العلماء بتصنيف الاقاليم المناخية حسب عده اسس منها تشابه كمية المطر و تشابه.....
- ١- مناطق الضغط الجوي. ٢- اتجاهات الرياح. ٣- درجات الحرارة. ٤- الانشطة البشرية.
- ٥٩- مناطق متصلة او منفصلة من سطح الارض، ولكنها متشابهة من حيث الحرارة والرياح والامطار.....
- ١- اقليم صناعي. ٢- اقليم مناخي. ٣- اقليم سكاني. ٤- اقليم عسكري.
- ٦٠- تنقسم الاقاليم المناخية الي..... اقاليم رئيسية.
- ١- ثلاثة. ٢- اربعة. ٣- خمسة. ٤- ستة.
- ٦١- يعد الاقليم..... من الاقاليم الحارة.
- ١- المداري. ٢- البحر المتوسط. ٣- الصيني. ٤- الصحاري المعتدلة.
- ٦٢- يتميز الاقليم بحرارة ورطوبة مرتفعة طوال العام، وبسقوط الامطار طوال العام.
- ١- الاستوائي وشبه الاستوائي. ٢- المداري. ٣- الصيني. ٤- الموسمي.
- ٦٣- يتميز الاقليم بالحرارة المرتفعة طوال العام، وسقوط الامطار صيفا.
- ١- الاستوائي وشبه الاستوائي. ٢- المداري. ٣- الصحراوي الحار. ٤- الموسمي.

المراجعة النهائية في الدراسات للصف الاول الاعدادي اعداد أ / مصطفى عاطف ٠١٠١٥٨٧١٩٠٦

- ٦٤- يمتد الاقليم..... بين دائرتي عرض ١٠ شمال وجنوب دائرة الاستواء.
- ١- الاستوائي وشبه الاستوائي. ٢- المداري. ٣- الصيني. ٤- الموسمي.
- ٦٥- يمتد الاقليم في جنوب شرق قارة اسيا.
- ١- الاستوائي وشبه الاستوائي. ٢- المداري. ٣- الصحراوي الحار. ٤- الموسمي.
- ٦٦- يعد الاقليم من الاقاليم الحارة التي يمتد غرب القارات.
- ١- الاستوائي وشبه الاستوائي. ٢- المداري. ٣- الصحراوي الحار. ٤- الموسمي.
- ٦٧- يتميز الاقليم بهبوب الرياح التي تغير اتجاهها بين الصيف والشتاء.
- ١- الاستوائي وشبه الاستوائي. ٢- المداري. ٣- الصحراوي الحار. ٤- الموسمي.
- ٦٨- يتميز الاقليم..... بسقوط المطر صيفا، والحرارة صيفا والبرودة شتاء.
- ١- الاستوائي وشبه الاستوائي. ٢- المداري. ٣- الصحراوي الحار. ٤- الموسمي.
- ٦٩- يمتد الاقليم..... بين دائرتي عرض ١٨ : ٣٠ شمالا وجنوبا غرب القارات.
- ١- الاستوائي وشبه الاستوائي. ٢- المداري. ٣- الصحراوي الحار. ٤- الموسمي.
- ٧٠- يمتد الاقليم بين دائرتي عرض ١٠ : ١٨ شمالا وجنوبا.
- ١- الاستوائي وشبه الاستوائي. ٢- المداري. ٣- الصحراوي الحار. ٤- الموسمي.
- ٧١- الاقليم يسمى بأقليم السافانا.
- ١- الاستوائي وشبه الاستوائي. ٢- المداري. ٣- الصحراوي الحار. ٤- الموسمي.
- ٧٢- يتميز الاقليم..... بارتفاع درجة الحرارة جدا صيفا، والبرودة الشديدة شتاء.
- ١- الاستوائي وشبه الاستوائي. ٢- المداري. ٣- الصحراوي الحار. ٤- الموسمي.
- ٧٣- الامطار الساقطة علي اقليم المناخ الاستوائي وشبه الاستوائي من النوع.....
- ١- التضاريسي. ٢- الاعصاري. ٣- التصاعدي. ٤- الموسمي.
- ٧٤- الامطار تكاد تكون نادرة ومنعدمة بأقليم المناخ.....
- ١- الاستوائي وشبه الاستوائي. ٢- المداري. ٣- الصحراوي الحار. ٤- الموسمي.
- ٧٥- المدى الحراري..... هو الفرق بين درجات الشتاء والصيف.
- ١- اليومي. ٢- الموسمي. ٣- السنوي. ٤- الشهري،
- ٧٦- المدى الحراري اليومي هو الفرق بين درجات حرارة
- ١- الصيف والشتاء. ٢- الليل والنهار. ٣- الشروق والغروب. ٤- الخريف والربيع.
- ٧٧- المدى الحراري اليومي والسنوي يكون كبير بالاقليم المناخي.....
- ١- الاستوائي وشبه الاستوائي. ٢- المداري. ٣- الصحراوي الحار. ٤- الموسمي.
- ٧٨- تقل الامطار بالاقليم..... كلما ابتعدنا عن دائرة الاستواء.
- ١- الاستوائي وشبه الاستوائي. ٢- المداري. ٣- الصحراوي الحار. ٤- الموسمي.
- ٧٩- كل الاقاليم الاتية من الاقاليم المناخية المعتدلة الدفينة ماعدا الاقليم.....

المراجعة النهائية في الدراسات للصف الاول الاعدادي اعداد أ / مصطفى عاطف ٠١٠١٥٨٧١٩٠٦

- ١- البحر المتوسط. ٢- غرب اوروبا. ٣- المعتدل الدافئ. ٤- الصحاري المعتدلة.
- ٨٠- يتميز اقليم..... بأنه حار جاف صيفا، دافئ ممطر شتاء.
- ١- البحر المتوسط. ٢- غرب اوروبا. ٣- المعتدل الدافئ. ٤- الصحاري المعتدلة.
- ٨١- يسمى الاقليم..... بالاقليم الصيني.
- ١- البحر المتوسط. ٢- غرب اوروبا. ٣- المعتدل الدافئ. ٤- الصحاري المعتدلة.
- ٨٢- يتميز الاقليم..... بسقوط الامطار طوال العام.
- ١- البحر المتوسط. ٢- المداري. ٣- المعتدل الدافئ. ٤- الصحاري المعتدلة.
- ٨٣- يمتد اقليم..... بين دائرتي عرض ٣٠ : ٤٥ شمالا وجنوبا داخل القارات.
- ١- البحر المتوسط. ٢- غرب اوروبا. ٣- المعتدل الدافئ. ٤- الصحاري المعتدلة.
- ٨٤- يمتد اقليم..... بين دائرتي عرض ٣٠ : ٤٥ شمالا وجنوبا شرق القارات.
- ١- البحر المتوسط. ٢- غرب اوروبا. ٣- المعتدل الدافئ. ٤- الصحاري المعتدلة.
- ٨٥- يمتد اقليم..... بين دائرتي عرض ٣٠ : ٤٥ شمالا وجنوبا غرب القارات.
- ١- البحر المتوسط. ٢- غرب اوروبا. ٣- المعتدل الدافئ. ٤- الصحاري المعتدلة.
- ٨٦- اقليم مناخي يسوده مناخ شديد البرودة طوال العام.
- ١- الصيني. ٢- المداري. ٣- الصحراوي الحار. ٤- الصحراوي المعتدل.
- ٩١- يمتد اقليم..... بين دائرتي عرض ٤٥ : ٦٠ شمالا وجنوبا غرب القارات.
- ١- غرب اوروبا. ٢- البحر المتوسط. ٣- المعتدل البارد. ٤- الصحراوي الحار.
- ٩٢- يتميز اقليم..... بسقوط الامطار طوال العام.
- ١- المعتدل البارد. ٢- البحر المتوسط. ٣- غرب اوروبا. ٤- التندرا.
- ٩٣- تسقط الامطار طوال العام علي اقليم غرب اوروبا بسبب وقوعه في نطاق الرياح.....
- ١- التجارية الشمالية. ٢- القطبية الغربية. ٣- العكسية الغربية. ٤- الموسمية.
- ٩٤- يمتد الاقليم..... بين دائرتي عرض ٤٥ : ٦٠ شمالا وجنوبا داخل القارات.
- ١- غرب اوروبا. ٢- المعتدل البارد. ٣- القاري البارد. ٤- الصحاري المعتدلة.
- ٩٥- يمتد الاقليم..... بين دائرتي عرض ٤٥ شمالا وجنوبا شرق القارات.

- ١- غرب اوروبا. ٢- المعتدل البارد. ٣- القاري البارد. ٤-
- الصحاري المعتدلة.
- ٩٦- الاقليم يشغل القمم الجبلية ومنحدراتها.
- ١- الاستوائي. ٢- الصيني. ٣- غرب اوروبا. ٤- الجبلي.
- ٩٧- يمتد الاقليم بين دائرتي عرض ٦٠ : ٩٠ شمال وجنوب دائرة الاستواء.
- ١- التندرا. ٢- القاري البارد. ٣- الجبلي. ٤- المداري.
- ٩٨- تشغل قمة سلاسل جبال الهيمالايا الثلوج لانها تنتمي للاقليم المناخي
- ١- التندرا. ٢- الصيني. ٣- غرب اوروبا. ٤- الجبلي.
- ٩٩- يسمى الاقليم بأقليم التندرا.
- ١- المداري. ٢- القاري البارد. ٣- المعتدل البارد. ٤- البارد.
- ١٠٠- اقليم مناخي يسوده مناخ قليل المطر وقصير وبارد شتاء اقليم.....
- ١- التندرا. ٢- الصيني. ٣- غرب اوروبا. ٤- الجبلي.
- ١٠١- تسقط الامطار علي الاقليم البارد (التندرا) في فصل
- ١- الشتاء. ٢- الصيف. ٣- الربيع. ٤- الخريف.
- ١٠٢- تسقط الثلوج بأقليم التندرا في فصل.....
- ١- الشتاء. ٢- الصيف. ٣- الربيع. ٤- الخريف.
- ١٠٣- من الاشجار المثمرة في الغابات الاستوائية
- ١- المطاط ٢- البلوط ٣- الزيتون ٤- الكاكو
- ١٠٤- من اشجار الغابات النفضية
- ١- الفلين ٢- المطاط ٣- الزان ٤- الصنوبر
- ١٠٥- تنمو الحشائش.....شمال وجنوب الغابات الاستوائية .
- ١-الحارة ٢- المعتدله ٣- الباردة ٤- الصحراويه
- ١٠٦- تعيش الفيلة في.....
- ١-الحشائش الحارة ٢- الحشائش المعتدله ٣- الغابات الاستوائية ٤- غابات البحر المتوسط
- ١٠٧- تنمو حشائش التندرا في المناطق.....
- ١-الحارة ٢- المعتدله ٣- الباردة ٤- الاستوائية
- ١٠٨- من النباتات الصحراوية التي لها القدرة علي تحمل الجفاف
- (النخيل - الفلين - الماهوجني - الكاكو)
- بم تفسر الجمل الاتيه:-
- ١- تعد الحرارة اهم عناصر المناخ؟

-
٢- اختلاف درجات الحرارة من مكان لآخر علي سطح الارض؟
-
٣- ارتفاع درجة الحرارة كلما اقتربنا من دائرة الاستواء ؟
-
٤- يغطي الجليد قمم جبال كينيا؟
-
٥- اعتدال درجة الحرارة الجهات القريبه من المسطحات المائية صيفا؟
-
٦- انخفاض درجة الحرارة في المناطق المزروعه والغابات عن المناطق المكشوفه ؟
-
٧- هبوب انواع مختلفه من الرياح علي سطح الارض؟
-
٨- تطف الرياح التجارية درجة حرارة المناطق التي تهب عليها؟
-
٩- الرياح الموسميه الصيفيه رياح ممطره؟
-
١٠- سقوط امطار غزير صيفا جنوب شرق اسيا؟
-
١١- حدوث نسيم البر والبحر؟
-
١٢- سقوط الامطار الاعصارية؟
-
١٣- حدوث تغيرات مناخيه في العالم في العصر الحديث؟
-
١٤- تقسيم العلماء سطح الارض الي اقاليم مناخيه؟
-
١٥- ارتفاع درجة الحرارة طوال العام بالاقليم المناخي الاستوائي وشبه الاستوائي؟
-
١٦- سقوط الامطار طوال العام علي اقليم مناخ غرب اوربا ؟

المراجعة النهائية في الدراسات للصف الاول الاعدادي اعداد أ / مصطفى عاطف ٠١٠١٥٨٧١٩٠٦

-
١٧- تنوع خصائص المناخ بين الاقاليم المناخيه الدفيئة رغم وقوعها في نفس دوائر العرض ؟
-
١٨- سقوط امطار غزيرة في اقليم الاستوائي وشبة الاستوائي؟
-
١٩- للنبات الطبيعي انواع مختلفه؟
-
٢٠- للغابات اهميه كبير؟
-
٢١- تسميه الغابات النفسيه بهذا الاسم؟
-
٢٢- عدم تراكم الثلوج فوق الغابات المخروطيه؟
-
٢٣- تعتبر حشائش السافانا حديقته حيوان طبيعيه؟
-
٢٤- الاهميه الاقتصايه لحشائش الاستبس؟
-
٢٥- نمو النخيل والتين الشوكي في المناطق الصحراويه؟
-
٢٦- حدوث الزلازل ؟
-
٢٧- حدوث البراكين؟
-
٢٨- يطلق علي النطاق المحيط بسواحل المحيط الهادي حلقه النار؟
-
٢٩- حدوث الفيضانات؟
-
٣٠- حدوث السيول؟
-
٣١- عدم تهديد الفيضانات لمصر في الوقت الحاضر؟

المراجعة النهائية في الدراسات للصف الاول الاعدادي اعداد أ / مصطفى عاطف ٠١٠١٥٨٧١٩٠٦

..... -

٣٢- حفر المصارف والترع حول القرى والمدن القريب من مصبات الاودية الجافه؟

..... -

٣٣- حدوث الانهيارات الجليديه؟

..... -

٣٤- حدوث الاعاصير؟

..... -

٣٥- ظهور الاخطار البيئية؟

..... -

٣٦- انتشار ظاهره التصحر؟

..... -

٣٧- أهميه الغابات؟

..... -

٣٨- نشوب حرائق الغابات؟

..... -

٣٩- حدوث ظاهره الاحتباس الحراري؟

..... -

٤٠- غرق السواحل؟

..... -

ما النتائج المترتبة علي:-

١- طول النهار في فصل الصيف؟

..... -

٢- قصر النهار في فصل الشتاء؟

..... -

٣- اختلاف مناطق الضغط الجوي علي سطح الارض؟

..... -

٤- اصطدام الرياح المحمله ببخار الماء بالجبال؟

..... -

٥- تقابل الهواء البارد مع الهواء الساخن المحمل ببخار الماء؟

-
٦- افراط الانسان في استخدام التكنولوجيا الضارة بالبيئة؟
-
٧- وقوع جنوب شرق اسيا ضمن الاقليم الموسمي؟
-
٨- وقوع اقليم مناخ غرب اوربا في نطاق الرياح العكسيه الغربيه؟
-
٩- وقوع اقليم مناخ التندرا بين دائرتي عرض ٦٠. ٩٠ شمالا وجنوبا؟
-
١٠- تنوع درجات الحرارة واختلاف كميات الامطار علي سطح الارض؟
-
١١- حدوث الزلازل؟
-
١٢- انزلاق صخور القشرة الارضيه فوق بعضها؟
-
١٣- حدوث البراكين؟
-
١٤- حدوث موجات تسونامي؟
-
١٥- تجمع الغازات المنصهره وانفجارها عند نقطه ضعيفه من القشرة الارضيه؟
-
١٦- حدوث الفيضانات؟
-
١٧- حدوث السيول؟
-
١٨- حدوث الانهيارات الجليديه؟
-
١٩- حدوث الاعاصير؟
-
٢٠- الاحتباس الحراري؟

المراجعة النهائية في الدراسات للصف الاول الاعدادي اعداد أ / مصطفى عاطف ٠١٠١٥٨٧١٩٠٦

..... -

٢١- استخدام طرق الري التقليديه في ري الاراضي الزراعيه؟

..... -

٢٢- حدوث حرائق الغابات؟

..... -

ماذا يحدث اذا:-

١- تشابه المناخ علي سطح الارض؟

..... -

٢- وقعت مصر بين دائرتي عرض ١٠ شمالا ١٠ جنوبا؟

..... -

٣- وقعت مصر بين دائرتي عرض ٦٠ شمالا ٩٠ جنوبا؟

..... -

٤- تشابه مناخ مصر مع مناخ جنوب شرق اسيا؟

..... -

٥- ازال الانسان كل الغابات علي سطح الارض؟

..... -

٦- كانت مصر تقع عند دائرة الاستواء من حيث النبات الطبيعي والحيوان؟

..... -

٧- لم تقم مصر ببناء السد العالي؟

..... -

٨- بنيت القري والمدن عند مجاري ومصببات الاوديه؟

..... -

٩- اختفت جميع الغابات بالعالم؟

..... -

١٠- انخفضت درجه حرارة العالم؟

..... -

١١- استمر ارتفاع درجه حرار العالم؟

..... -

١٢- تخلص الانسان من المخلفات بطريقه علميه؟

..... -

دلل علي صحة العبارات الاتيه:-

١- يؤثر الغطاء النباتي علي درجه الحرارة؟

..... -

٢-تختلف مناطق توزيع المطر علي سطح الكرة الارضيه؟

..... -

٣- تؤثر التضاريس علي درجه الحرارة؟

..... -

٤-للمسطحات المائية اثر علي الحرارة؟

..... -

٥- يوجد ارتباط بين الرياح ومناطق توزيع المطر؟

..... -

٦- للزلازل اثار مدمرة؟

..... -

٧- ينتج عن حدوث البراكين اثار سلبية واخري ايجابية؟

..... -

٨-تساهم البراكين في تشكيل سطح الارض.؟

..... -

٩- تتعدد اشكال اخطار المياه؟

..... -

١٠- للفيضانات اثار متناقضه علي المياه؟

..... -

١١- قد يحدث التصحر لاسباب ليس للانسان دخل فيها؟

..... -

١٢- تبذل حكومات الدول العديد من الجهود للحد من ظاهره الاحتباس الحراري؟

..... -

ما علاقه بين:-

١- الحرارة والضغط الجوي؟

..... -

٢-الضغط الجوي والرياح؟

..... -

٣- المناخ والنظام البيئي الذي يعيش فيه الانسان؟

..... -

٤- التضاريس ودرجه الحرارة؟

..... -

٥- قصر النهار شتا ودرجه الحرارة؟

..... -

٦- التكنولوجيا في العصر الحديث والمناخ؟

..... -

٧- عناصر المناخ ونمو النبات الطبيعي؟

..... -

٨- البيئة الصحراوية ونوع الحيوان بها؟

..... -

٩- البراكين والتربة الزراعيه في مصر؟

..... -

١٠- الانهيارات الجليديه والفيضانات؟

..... -

١١- الاعاصير وتاكل السواحل؟

..... -

١٢- اسباب التصحر وحدوث الاحتباس الحراري؟

..... -

١٣- ازاله الغابات وبعض الاخطار البيئية؟

..... -

١٤- حرائق الغابات وتغير المناخ؟

..... -

اكتب ما تشير اليه العبارات الاتيه:-

١- متوسط حاله الجو في فترة زمنيّه طويله(.....)

٢-وصف حاله الجو لفترة زمنيّه قصيره قد تكون يوم او اسبوع(.....)

٣- اهم عناصر المناخ(.....)

المراجعة النهائية في الدراسات للصف الاول الاعدادي اعداد أ / مصطفى عاطف ٠١٠١٥٨٧١٩٠٦

- ٤- رياح تهب من منطقتي الضغط المرتفع عن دائرة عرض ٣٠ شمالا وجنوبا الي منطقه ضغط منخفض عند دائرة الاستواء(.....)
- ٥- رياح تهب بانتظام طوال العام (.....)
- ٦- رياح تهب من منطقه ضغط مرتفع عند دائرة عرض ٣٠ شمالا وجنوبا الي منطقه ضغط منخفض عند الدائرتين القطبيتين(.....)
- ٧- رياح تهب من منطقه ضغط مرتفع عند القطب الشمالي والقطب الجنوبي نحو منطقه ضغط منخفض عند اللدائرتين القطبيتين الشماليه والجنوبيه(.....)
- ٨- رياح تغير اتجاهها موسميا بين الصيف والشتاء(.....)
- ٩- رياح ذات تأثير محلي تهب فوق مناطق محدوده علي سطح الارض(.....)
- ١٠- يحدث نتيجة اختلاف درجات الحرارة علي اليابس والماء(.....)
- ١١- رياح محمله بالاتربه تهب علي السودان(.....)
- ١٢- رياح محملة بالاتربه وتضر بالمحاصيل الزراعيه وتهب علي مصر (.....)
- ١٣- امطار تسقط نتيجة صعود الهواء الساخن المحمل ببخار الماء الي طبقات الجو العليا(.....)
- ١٤- امطار تسقط نتيجة تقابل الهواء البارد مع الهواء الساخن المحمل ببخار الماء (.....)
- ١٥- امطار تسقط نتيجة اصطدام الرياح بالجبال(.....)
- ١٦- منطقه نادرة المطر في شمال افريقيا(.....)
- ١٧- مناطق متصله او منفصله من سطح الارض متشابهه في خصائصها المناخيه(.....)
- ١٨- اقليم مناخي يقع بين دائرتي عرض ١٠ شمالا وجنوبا(.....)
- ١٩- اقليم مناخي يقع جنوب شرق اسيا (.....)
- ٢٠- اقليم مناخي حار جاف صيفا دافي ممطر شتا(.....)
- ٢١- اقليم مناخي يقع في نطاق الرياح العكسيه الغربيه(.....)
- ٢٢- اقليم مناخي يشمل القمم الجبلية و منحدراتها(.....)
- ٢٣- نبات ينمو طبيعيا بدون تدخل الانسان(.....)
- ٢٤- ارض بها تجمعات شجريه كثيفه ومتشابكه(.....)
- ٢٥- نباتات طبيعيه اقل حجما من الغابات وتظهر مع تناقص كميات المطر (.....)

المراجعة النهائية في الدراسات للصف الاول الاعدادي اعداد أ / مصطفى عاطف ٠١٠١٥٨٧١٩٠٦

- ٢٦- غابات دائمه الخضرة توجد في السهول والاوديه(.....)
- ٢٧- غابات اشجارها دائمه الخضرة وغطائها من النوع المخروطي(.....)
- ٢٨- حشائش قصيرة تصلح كمراعي طبيعيه(.....)
- ٢٩- حشائش تعتبر حديقته حيوان طبيعيه(.....)
- ٣٠- غابات توجد بالقرب من دائرة الاستواء(.....)
- ٣١- طحالب وحشائش سريعه تظهر في فصل الصيف القصير في الاقليم البارد(.....)
- ٣٢- دمار كبير يحدث بسبب طبيعي لا دخل للانسان فيه(.....)
- ٣٣- تحدث بسبب عوامل طبيعيه وبشريه معا(.....)
- ٣٤- انكسار وضعف في القشرة الارضيه(.....)
- ٣٥- زياده في منسوب المياه عن معدل الطبيعي في الانهار حتي يطغي علي اليابس(.....)
- ٣٦- امطار غزير فجائية تتجمع في شبكات الاوديه(.....)
- ٣٧- عواصف هوائية حلزونية عنيفه تنشأ فوق المحيطات(.....)
- ٣٨- تحرك الجليد المتراكم علي جوانب الجبال الي اسفل بسرعه شديده(.....)
- ٣٩- تناقص القدرة الانتاجيه للاراضي الزراعيه(.....)

قارن بين:-

١- الرياح الدائمه والرياح الموسمي:-

الرياح الدائمه	
الرياح الموسمي	

٢- نسيم البر والبحر

نسيم البر	
نسيم البحر	

٣- الامطار التصاعديه والامطار التضاريسية

الامطار التصاعديه	
الامطار التضاريسية	

٤- اقليم مناخ الموسمي و اقليم مناخ البحر المتوسط من حيث : الموقع - الخصائص المناخيه

المراجعة النهائية في الدراسات للصف الاول الاعدادي اعداد أ / مصطفى عاطف ٠١٠١٥٨٧١٩٠٦

الموقع	الخصائص المناخية
الاقليم الموسمي	
اقليم البحر المتوسط	

٥- حشائش السافانا وحشائش الاستبس من حيث : الاقليم الذي تنمو فيه - الخصائص النباتية

الموقع	الخصائص المناخية
الاقليم الموسمي	
اقليم البحر المتوسط	

التاريخ:-

١- تميز المجتمع المصري القديم بـ

١- الضعف والانهيار. ٢- الظلم والفرقة. ٢- التدهور و الصراعات. ٤- الوحدة والتماسك.

٢- مجموعة من الافراد تجمعهم صفات ومصالح واهداف مشتركة.

١- الحياة الاجتماعية. ٢- الطبقة الاجتماعية. ٣- الاسرة. ٤- الحياة الثقافية.

٣- كان طبقة تمثل الطبقة الاولى في المجتمع المصري القديم.

١- الوزراء والكهنة والكتبة. ٢- فرعون واسرته. ٣- صغار التجار واصحاب الحرف المتميزون. ٤- عمال الزراعة والحرفيون.

٤- كانت طبقة الوزراء وكبار الكهنة والكتبة وحكام الاقاليم يمثلون الطبقة في المجتمع المصري القديم.

١- الاولى. ٢- الثانية. ٣- الثالثة. ٤- الرابعة.

٥- كان اصحاب الحرف المتميزون من ضمن الطبقة في المجتمع المصري القديم.

١- الاولى. ٢- الثانية. ٣- الثالثة. ٤- الرابعة.

٦- كان يلي طبقة صغار الموظفين والتجار في مصر القديمة طبقة تضم

١- اصحاب الحرف المتميزون. ٢- الوزراء. ٣- عمال الزراعة. ٤- حكام الاقاليم.

٧- كان من ضمن الطبقة الثانية في المجتمع المصري القديم.

١- الكتبة. ٢- الحرفيون. ٣- اصحاب الحرف المتميزون. ٤- صغار التجار.

٨- كل مما يأتي من ضمن الطبقة الثانية في المجتمع المصري القديم ما عدا

١- كبار الكهنة. ٢- الكتبة. ٣- حكام الاقاليم. ٤- أصحاب الحرف المتميزون.

المراجعة النهائية في الدراسات للصف الاول الاعدادي اعداد أ / مصطفى عاطف ٠١٠١٥٨٧١٩٠٦

- ٩- كل مما يأتي من ضمن الطبقة الرابعة في المجتمع المصري القديم ماعدا.....
- ١- عمال الزراعة. ٢- الحرفيون. ٣- الرعاة. ٤- صغار التجار.
- ١٠- هي مجموعة العادات والتقاليد التي كانت تتمسك بها طبقات الشعب المصري في الملابس والمأكل والمشرب.
- ١- الحياة الاقتصادية. ٢- الحياة الاجتماعية. ٣- الحياة الثقافية. ٤- الحياة الدينية.
- ١١- كان هو رب الاسرة المصرية القديمة.
- ١- الاب. ٢- الام. ٣- الابن. ٤- فرعون.
- ١٢- بني المصري القديم مساكنه من
- ١- الفخار. ٢- الطوب اللبن. ٣- الاحجار. ٤- الطوب الاحمر.
- ١٣- كانت مساكن تتميز بالفخامة والاتساع.
- ١- الوزراء. ٢- الاغنياء. ٣- قصر فرعون. ٤- العامة.
- ١٤- كانت ملابس عامة الشعب تصنع من..... ((١- القطن. ٢- الصوف. ٣- الكتان. ٤- الحرير المستورد.))
- ١٥- كانت مساكن..... بها الحدائق الجميلة وجدرانها محلاة بالزخارف والنقوش.
- ١- الاغنياء. ٢- العامة. ٣- الكتبة. ٤- الكهنة.
- ١٦- كانت ملابس فرعون والاعنياء تصنع من
- ١- القطن. ٢- الجوت. ٣- الكتان. ٤- الحرير المستورد.
- ١٧- كانت مساكن تتميز بالبساطة، وتتكون من حجرة واحدة او حجرتين.
- ١- الاغنياء. ٢- العامة. ٣- فرعون. ٤- الكهنة.
- ١٨- كان يتم استيراد الحرير المستورد من بلاد.....
- ١- النوبة. ٢- بونت. ٣- فلسطين. ٤- فينيقيا.
- ١٩- كانت ملابس فرعون والاعنياء المصنوعة من الحرير المستورد تطرز ب والفضة.
- ١- الالماس. ٢- الذهب. ٣- النحاس. ٤- اللؤلؤ.
- ٢٠- كان علي رأس الهرم الطبقي في مصر القديمة.
- ١- الوزير. ٢- الكاهن. ٣- الفرعون. ٤- الكاتب.
- ٢١- كان المصري القديم يتناول..... في اليوم.
- ١- وجبة واحدة. ٢- وجبتين. ٣- ثلاث واجبات. ٤- اربع واجبات.
- ٢٢- كان المصري القديم يتناول الطعام في البداية علي.....
- ١- الموائد المنخفضة. ٢- الجلود. ٣- الحصير. ٤- الموائد المرتفعة.
- ٢٣- من العاب الرجال عند المصري القديم.....
- ١- لعبة تقاذف الكرات. ٢- لعبة اخفاء الوجه. ٣- الشطرنج. ٤- لعبة العصا والطوق.

المراجعة النهائية في الدراسات للصف الاول الاعدادي اعداد أ / مصطفى عاطف ٠١٠١٥٨٧١٩٠٦

- ٢٤- من الالعاب الرياضية التي مارسها المرأة في مصر القديمة.....
- ١- لعبة تقاذف الكرات. ٢- لعبة اخفاء الوجه. ٣- الشطرنج. ٤- لعبة العصا والطوق.
- ٢٥- من العاب الاطفال عند المصريين القدماء.....
- ١- لعبة تقاذف الكرات. ٢- التحطيب. ٣- الشطرنج. ٤- لعبة العصا والطوق.
- ٢٦- كل مما يأتي كانت من العاب الرجال عند المصريين القدماء ماعدا.....
- ١- التصويب علي كتلة خشبية. ٢- المصارعة. ٣- رفع الاثقال. ٤- الشطرنج.
- ٢٧- من العاب الرجال التي تعتمد علي التفكير.....
- ١- التصويب علي كتلة خشبية. ٢- المصارعة. ٣- رفع الاثقال. ٤- الشطرنج.
- ٢٨- من الالات الموسيقية عند المصريين القدماء.....
- ١- الناي. ٢- الجيتار. ٣- الطبول. ٤- الجيتار.
- ٢٩- يعد عيد رأس السنة وعيد..... من الاعياد الاجتماعية عند المصريين القدماء.
- ١- الاله امون. ٢- النصر. ٣- الفيضان. ٤- الربيع.
- ٣٠- يعد عيد الاله امون من الاعياد.....
- ١- السياسية. ٢- العسكرية. ٣- الدينية. ٤- الاقتصادية.
- ٣١- يعد عيد النصر من الاعياد.....
- ١- السياسية. ٢- العسكرية. ٣- الدينية. ٤- الاقتصادية.
- ٣٢- من الاعياد الاقتصادية عند المصريين القدماء عيد.....
- ١- الحصاد. ٢- النصر. ٣- الربيع. ٤- الاله امون.
- ٣٣- يعد عيد جلوس فرعون علي العرش من الاعياد..... عند المصريين القدماء.
- ١- السياسية. ٢- العسكرية. ٣- الدينية. ٤- الاقتصادية.
- ٣٤- الكتابة..... هي الخط الرسمي للدولة في مصر القديمة.
- ١- الهيروغليفية. ٢- الهيراطيقية. ٣- الديمقراطية. ٤- القبطية.
- ٣٥- عرفت الكتابة..... بخط رجال الدين.
- ١- الهيروغليفية. ٢- الهيراطيقية. ٣- الديمقراطية. ٤- القبطية.
- ٣٦- سجلت النصوص الدينية في مصر الفرعونية بالكتابة.....
- ١- الهيروغليفية. ٢- الهيراطيقية. ٣- الديمقراطية. ٤- القبطية.
- ٣٧- عرفت الكتابة..... بالخط الشعبي.
- ١- الهيروغليفية. ٢- الهيراطيقية. ٣- الديمقراطية. ٤- القبطية.
- ٣٨- استخدمت الكتابة..... في النقش علي جدران المعابد.
- ١- الهيروغليفية. ٢- الهيراطيقية. ٣- الديمقراطية. ٤- القبطية.
- ٣٩- كانت الكتابة..... تكتب من اعلي الي اسفل، ومن اليمين الي اليسار.

- ١- الهيروغليفية. ٢- الهيروغليفية. ٣- الديمقراطية. ٤- القبطية.
- ٤٠- الكتابة القبطية أخذت من الكتابة.....
- ١- الهيروغليفية. ٢- الهيروغليفية. ٣- الديمقراطية. ٤- القبطية.
- ٤١- استخدم الكهنة الكتابة..... في الكتابة علي اوراق البردي.
- ١- الهيروغليفية. ٢- الهيروغليفية. ٣- الديمقراطية. ٤- القبطية.
- ٤٢- تعد الكتابة..... هي المرحلة الاخيرة من مراحل تطور الكتابة المصرية القديمة.
- ١- الهيروغليفية. ٢- الهيروغليفية. ٣- الديمقراطية. ٤- القبطية.
- ٤٣- استخدم المصريون الكتابة..... في كافة نواحي الحياة.
- ١- الهيروغليفية. ٢- الهيروغليفية. ٣- الديمقراطية. ٤- القبطية.
- ٤٤- كان الورق في مصر القديمة مصنوع من.....
- ١- الكتان. ٢- الخشب. ٣- البردي. ٤- الصوف.
- ٤٥- كان لون الحبر في مصر القديمة.....
- ١- احمر وازرق. ٢- احمر واسود. ٣- اسود وازرق. ٤- اسود وبنفسجي.
- ٤٦- الهيروغليفية كلمة.....
- ١- مصرية. ٢- لاتينية. ٣- رومانية. ٤- يونانية.
- ٤٧- الكتابة..... كانت عبارة عن رموز اخذت من الطبيعة مثل انسان ونبات وحيوان وطيور.
- ١- الهيروغليفية. ٢- الهيروغليفية. ٣- الديمقراطية. ٤- القبطية.
- ٤٨- عرفت الكتابة الديمقراطية في مصر القديمة ب.....
- ١- الخط المقدس. ٢- خط رجال الدين. ٣- الخط الشعبي. ٤- الخط الرسمي للدولة.
- ٤٩- عرفت الكتابة الهيروغليفية في مصر القديمة ب.....
- ١- الخط المقدس. ٢- خط رجال الدين. ٣- الخط الشعبي. ٤- الخط اللاتيني.
- ٥٠- هو أدب يتناول الحياة الحياة بعد الموت، وعقيدة البعث والخلود.
- ١- الادب الديني. ٢- الادب القصصي. ٣- الادب التهذيبي. ٤- أدب المديح.
- ٥١- نوع من انواع الادب الديني سجل علي بعض جدران الاهرامات من الداخل لتكون عوناً للميت في الحياة الاخرى.
- ١- كتاب الموتى. ٢- أناشيد اخناتون. ٣- نصوص الاهرام. ٤- الاساطير الدينية.
- ٥٢- تعد قصة..... من القصص الخيالية التي تدعو للحبرة والعظة.
- ١- البحار الغريق. ٢- سنوحي. ٣- ايزيس واوزيريس. ٤- الطوفان.
- ٥٣- هي كتابات دينية دونت علي اوراق البردي لتوضع مع الميت لمساعدته في الحساب.
- ١- كتاب الموتى. ٢- أناشيد اخناتون. ٣- نصوص الاهرام. ٤- الاساطير الدينية.

المراجعة النهائية في الدراسات للصف الاول الاعدادي اعداد أ / مصطفى عاطف ٠١٠١٥٨٧١٩٠٦

- ٥٤- هو ادب يقدم القصص الحقيقية والخرافية بقصد تقديم القدوة والموعظة الحسنة.
- ١- الادب الديني. ٢- الادب القصصي. ٣- الادب التهذيبي. ٤- أدب المديح.
- ٥٥- تعد قصة قصة حقيقية من الادب القصصي التي كان يعرض بعض القضايا السياسية والاجتماعية.
- ١- البحار الغريق. ٢- سنوحي. ايزيس واوزيريس. ٤- الطوفان.
- ٥٦- ما ورد في تمجيد الملك سنوسرت الثالث يعد من
- ١- الادب الديني. ٢- الادب القصصي. ٣- الادب التهذيبي. ٤- أدب المديح.
- ٥٧- تعد قصة من الاساطير الدينية. ((١ - البحار الغريق. ٢- سنوحي. ايزيس واوزيريس. ٤- الطوفان.))
- ٥٨- هلي صلوات كان يحيي بها لئله اتون ورمز له بقرص الشمس.
- ١- كتاب الموتى. ٢- أناشيد اخناتون. ٣- نصوص الاهرام. ٤- الاساطير الدينية.
- ٥٩- تعد تعاليم الحكيم بتاح حتب من الادب ((١ - الديني. ٢- القصصي. ٣- التهذيبي. ٤- المديح.))
- ٦٠- من القصص الخرافية قصة عند المصريين القدماء.
- ١- البحار الغريق. ٢- سنوحي. ايزيس واوزيريس. ٤- الطوفان.
- ٦١- هو ادب الحكم والنصائح والسلوك والتربية والاخلاق.
- ١- الادب الديني. ٢- الادب القصصي. ٣- الادب التهذيبي. ٤- أدب المديح.
- ٦٢- هو ادب يمجّد اعمال فرعون ويشيد بفضله علي الشعب.
- ١- الادب الديني. ٢- الادب القصصي. ٣- الادب التهذيبي. ٤- أدب المديح.
- ٦٣- كان يعكس بعض القضايا السياسية والاجتماعية التي عاشها المصري القديم.
- ١- الادب الديني. ٢- الادب القصصي. ٣- الادب التهذيبي. ٤- أدب المديح.
- ٦٤- بني المصريين القدماء مساكنهم من
- ١- الاحجار. ٢- الفخار. ٣- الطوب اللبن. ٤- الطوب الاحمر.
- ٦٥- بني المصريين القدماء مقابرهم من
- ١- الاحجار. ٢- الفخار. ٣- الطوب اللبن. ٤- الطوب الاحمر.
- ٦٦- اول مرحلة من المقابر التي بناها المصريون كانت عبارة عن
- ١- حفرة. ٢- حجرة او حجرتين. ٣- هرم مدرج. ٤- هرم كامل.
- ٦٧- هي دور للعبادة كان يستخدمها المصريون القدماء.
- ١- المقابر. ٢- المعابد. ٣- المساكن. ٤- الكهوف.
- ٦٨- من المعابد الجنائزية معبد
- ١- اليرمسيوم. ٢- الكرنك. ٣- الاقصر. ٤- ابو سمبل.
- ٦٩- كان يتم النقش علي الحجر في

المراجعة النهائية في الدراسات للصف الاول الاعدادي اعداد أ / مصطفى عاطف ٠١٠١٥٨٧١٩٠٦

- ١- المقابر. ٢- المعابد. ٣- المساكن. ٤- الكهوف.
- ٧٠- يوجد معبد بالدير البحري غرب الأقصر.
- ١- الملكة حتشبسوت. ٢- الأقصر. ٢- الرمسيوم. ٤- الكرنك.
- ٧١- أقام الملك رمسيس الثاني معبد
- ١- الملكة حتشبسوت. ٢- الأقصر. ٢- الرمسيوم. ٤- الكرنك.
- ٧٢- في العصور البدائية كان القانون يعني.....
- (الدين - العرف - القوه - التدوين)
- ٧٣- من الحقوق السياسية التي يجب ان يتمتع بها الفرد.....
- (العيش في سلام - حريه المعتقد - الحق في العمل - توافر الرعاية الصحيه)
- ٧٤- الحق في العمل من الحقوق.....
- (السياسية - الاقتصاديه - الاجتماعيه - الثقافيه)
- ٧٥- اعلنت الدوله الرومانيه سياسة التسامح مع المسيحيين من العاصمه.....
- (روما - الاسكندريه - بيزنطه - اثينا)
- ٧٦- دخلت المسيحيه مصر علي يد.....
- (باخوم - مرقس - انطونيوس - افلاتيون)
- ٧٧- نشأت الرهبنة في.....
- (سوريا - فلسطين - مصر - ليبيا)
- ٧٨- يسمي عصر الامبراطور.....بعصر الشهداء
- (اكتافيوس - نيرون - دقلديانوس - قسطنطين)
- ٧٩- نجحت روما في السيطرة علي البحر المتوسط باستيلائها علي.....
- (اليونان - مصر - سوريا - فينيقيا)
- ٨٠- احتلت الاسكندريه المركز الثاني بعد روما في النواحي.....
- (السياسيه - العسكريه - الاجتماعيه - الثقافيه)
- ٨١- اصبحت روما بعد وفاه يوليوس قيصر وتقسيم امبراطوريته من نصيب.....
- (انطونيوس - اكتافيوس - نيرون - يوليوس قيصر)
- ٨٢- اخر ملوك البطالمه الاقوياء
- (بطلميوس الاول - بطلميوس الثاني - بطلميوس الرابع - بطلميوس الثالث)
- ٨٣- انشامكتبه الاسكندريه
- (بطلميوس الاول - بطلميوس الثاني - بطلميوس الرابع - بطلميوس الثالث)
- ٨٤- انتهت دوله البطالمه في مصر مع نهاية حكم.....

(بطلميوس الاول - بطلميوس الثاني - بطلميوس الرابع - كليوباترا)

اكمل الجمل الاتيه:-

- ١- تكونت مساكن من حجرة او حجرتين في مصر الفرعونية
- ٢- بني المصري القديم مساكنه من.....
- ٣- يمثل..... راس الهرم في مصر الفرعونية
- ٤- تكونت الطبقة الثالثة من طبقات المجتمع من.....،.....
- ٥- تميزت مساكن..... بالاتساع والفخامة
- ٦- تكون اثاث المصريين القدماء من.....،.....
- ٧- من الالعاب الرياضيه التي كانت تمارسها المرأه.....،.....
- ٨- استخدم المصريون ادوات التزيين مثل.....
- ٩- من الاعياد الاجتماعيه عند المصريين القدماء.....،.....
- ١٠- يعتبر عيد جلوس الملك علي العرش من الاعياد..... عند المصريين
- ١١- من الاعياد الاقتصاديه عند المصريين القدماء.....،.....
- ١٢- كانت الكتابه..... الخط الرسمي للدولة
- ١٣- عرفت الكتابه الهيروغليفية ب.....
- ١٤- يعتبر..... من الادب الديني
- ١٥- يتضمن الادب القصصي قصص حقيقه مثل..... وقصص خرافيه
مثل.....
- ١٦- اسطورة ايزيزيس واوزوريس من.....
- ١٧- الادب الذي يمجد اعمال الفرعون هو.....
- ١٨- من العلوم التي برع فيها الفراعنه.....
- ١٩- يعتبر المصري القديم اول من استخدم التقويم.....
- ٢٠- نبغ المصرييون في علم الكيمياء فصنعوا.....
- ٢١- بني المصري القديم مقابر من.....
- ٢٢- يعتبر تقدير الضرائب دليل علي تقدم المصريين في.....
- ٢٣- ولد الاسكندر في بلاد.....
- ٢٤- اسس مدينه الاسكندريه
- ٢٥- اسس..... الدوله البطلميه
- ٢٦- بدا في عهده بناء مناره الاسكندريه.....
- ٢٧- انتهى من بناء مناره الاسكندريه

- ٢٨- به تنتهي قوه البطالمة
- ٢٩- اخر ملوك البطالمة.....
- ٣٠- بني البطالمة معبد.....في الاسكندريه
- ٣١- اتخذ البطالمة من مدينه.....عاصمه للبلاد
- ٣٢- حكم.....القسم الشرقي من الامبراطورية الرومانيه بعد مقتل يوليوس قيصر
- ٣٣- انتصر علي كليوبترا في معركة اكتيوم البحريه القائد.....
- ٣٤- دخلت المسيحيه في مصر علي يد.....
- ٣٥- من رواد الرهبنة الجماعيه الانبا.....
- ٣٦- تزوجت كليوبترا من القائد الروماني.....
- ٣٧- حكم.....القسم الغربي من الامبراطورية الرومانيه بعد مقتل يوليوس قيصر
- ٣٨- من رواد الرهبنة الفرديه الانبا.....
- ٣٩- اطلق علي عهد الامبراطور دقلديانوس عصر.....
- ٤٠- بدا اضطهاد الرومان للمسيحيين في عهد.....
- ضع علامه صح او علامه خطأ:-

- ١- تمثل الطبقة الثانيه في طبقات المجتمع التجار واصحاب الحرف المتميزون ()
- ٢- من الاعياد العسكريه عيد النصر ()
- ٣- كانت ملابس الفرعون تصنع من الحرير المستورد من بلاد بونت ()
- ٤- من انواع الادب التهذيبي تعاليم بتاح حتب ()
- ٥- تعرف الكتابه الديموطيقه بخط رجال الدين ()
- ٦- حرمت المراه في مصر الفرعونييه من الاستقلال المالي ()
- ٧- تعد الموسيقي شرطاً من شروط الغناء عند المصري القديم ()
- ٨- تميز مسكن المصري القديم بالبساطه ()
- ٩- الحلّي من ادوات الزينه عند المصريين القدماء ()
- ١٠- اقتصرت الالعاب الرياضيه في مصر قديماً علي الرجال ()
- ١١- من الاعياد الدينيه عند المصريين لقدماء عيد الاله امون ()
- ١٢- تنوعت الاغاني في مصر الفرعونييه بين الاغاني الفرديه والجماعيه ()
- ١٣- صنعت ملابس الفرعون من الحرير ()
- ١٤- من الاعياد العسكريه عند المصريين القدماء عيد الفيضان ()
- ١٥- اخذت الكتابه الديموطيقه من الكتابه القبطيه ()
- ١٦- من امثله الادب التهذيبي نصائح الحكيم بتاح حتب ()
- ١٧- من امثله الادب القصصي قصه البحار الغريق ()
- ١٨- الاساطير الدينيه هي قصص خياليه تهدف للعبرة والعظه ()

- ١٩- تعرف الكتابه الهيراطيقيه بخط رجال الدين ()
- ٢٠- كانت الهيروغليفه تكتب من اعلي الي اسفل ()
- ٢١- بني المصريون القدماء المساكن من الاحجار ()
- ٢٢- يعد معبد الرمسيوم من اهم معابد الالهه ()
- ٢٣- استفاد الفراعنه من علم الحساب في نشاطهم التجاري والزراعي ()
- ٢٤- عرف المصريون القدماء صناعه الملابس الملونه اعتمادا علي علم الكيمياء ()
- ٢٥- قسم المصريون القدماء السنه الزراعيه الي اثني عشر شهرا ()
- ٢٦- استخدم المصريون علم الحساب في معرفه كميه المحاصيل ()
- ٢٧- استخدم المصري القديم النقش علي الحجر في المعابد ()
- ٢٨- توصل المصريين القدماء الي تشخيص الامراض وطرق علاجها ()
- ٢٩- كانت مساكن المصريين القدماء تبني من الطوب اللبن ()
- ٣٠- كانت المعابد الجنائزيه مكانا تقام فيه القرابين والشعائر للالهه ()
- ٣١- نجح الاسكندر في توحيد بلاد الاغريق بعد وفاه والده ()
- ٣٢- مثل البحر الاحمر اهميه كبيره للاسكندر ()
- ٣٣- هاجم الاسكندر الفرس في مصر بر يا وبحريا ()
- ٣٤- اسس بطلميوس الاول دوله البطالمه ()
- ٣٥- كان حكم البطالمه امتدادا لحكم الفراعنه المطلق ()
- ٣٦- استخدم البطالمه اللغه القبطيه كلغه رسميه للبلاد ()
- ٣٧- ادخل البطالمه ادوات جديده للري مثل الساقيه ()
- ٣٨- انشا البطالمه معبد الالهه حورس في جزيرة فيله ()
- ٣٩- كانت مدينه الاسكندريه مركز اشعاع حضاري في عهد البطالمه ()
- ٤٠- بداتا لعلاقه بين روما والبطالمه منذ عهد بطلميوس الاول ()
- ٤١- تغيرت اللغه الرسميه في عهد الرومان في مصر ()
- ٤٢- تمتع الاغريق بعض الامتيازات كالاغفاء من الضرائب ()
- ٤٣- فشل القائد انطونيوس في توسيع ممتلكاته شرقا ()
- ٤٤- احتلت الاسكندريه المركز الاول في نشر الحضارة الرومانيه ()
- ٤٥- اصبحت مصر ولايه رومانيه عام ٣٠ ق م ()
- ٤٦- وقعت معركة اكتيوم البحريه علي السواحل الغربيه لبلاد المغرب ()
- ٤٧- الغي الرومان نظام الاحتكار علي كل الصناعات ()
- ٤٨- كان الرومان يؤمنون بحريه العقيده والعباده ()

المراجعة النهائية في الدراسات للصف الاول الاعدادي اعداد أ / مصطفى عاطف ٠١٠١٥٨٧١٩٠٦

- ٤٩- دخلت المسيحية مصر علي يد القديس باخوم ()
- ٥٠- اصبحت المسيحية ديناً رسمياً للدولة البيزنطية ()
- ٥١- اقتصر دور الاديرة علي النواحي الدينية ()
- ٥٢- بدا اضطهاد الرومان للمسيحيين في عهد هيروُدس ()
- ٥٣- المواطن الصالح هو الشخص الذي يعمل علي تغيير عادات وتقاليده المجتمع ()
- ٥٤- تعد المعرفة القاعده الاساسية للعمل ()
- ٥٥- علي المواطن الصالح ان يعرف حقوقه فقط واجباته ()
- ٥٦- حريه التعبير عن الراي من الحقوق السياسيه ()
- ٥٧- القواعد القانونية غير ملزمة لكل افراد المجتمع ()
- ٥٨- يعتبر القانون ضرورة اجتماعيه ()

بم تفسر الجمل الآتيه:-

- ١- كانت حياه المجتمع المصري القديم مستقره يسودها الود؟
..... -
- ٢- احتلت المراه في مصر مكانه مهمه في الاسره؟
..... -
- ٣- اختلفت ملابس المصريين القدماء؟
..... -
- ٤- اختلف الاثاث في مصر الفرعونيّه؟
..... -
- ٥- تسميه الكتابه الهيروغليفيه بالخط المقدس؟
..... -
- ٦- كانت الهيروغليفيه الخط الرسمي للدولة؟
..... -
- ٧- عرفت الكتابه الهيروغليفيه بخط رجال الدين؟
..... -
- ٨- عرفت الكتابه الديموطيقه بالخط الشعبي؟
..... -
- ٩- ابداع المصري القديم في الادب؟
..... -

المراجعة النهائية في الدراسات للصف الاول الاعدادي اعداد أ / مصطفى عاطف ٠١٠١٥٨٧١٩٠٦

١٠- وضع المصري القديم الكتابات الدينية مع الميت؟

-

١١- اهتمام المصري القديم بالادب التهذيبي؟

-

١٢- اهتمام المصريين القدماء بعلم الحساب؟

-

١٣- اهتمام المصريين القدماء بالتحميط؟

-

١٤- يعد معبد حتشبسوت من المعابد الجنائزية؟

-

١٥- بقاء معابد ومقابر المصريين القدماء حتي الان وزوال مساكنهم؟

-

١٦- اتجاه معظم الدول قديما لاحتلال مصر؟

-

١٧- استيلاء الاسكندر الاكبر علي مصر؟

-

١٨- لقب الاسكندر الاكبر باعظم الفاتحين؟

-

١٩- كراهية المصريين للفرس؟

-

٢٠- تاسيس الاسكندر الاكبر لمدينه الاسكندريه؟

-

٢١- زيارة الاسكندر لمعبد الاله امون في واحه سيوة؟

-

٢٢- تاسيس دوله البطالمة؟

-

٢٣- قيام المصريين بثورات ضد البطالمة؟

-

٢٤- اهتمام بطليموس الاول بالحياه الاقتصاديه؟

-

المراجعة النهائية في الدراسات للصف الاول الاعدادي اعداد أ / مصطفى عاطف ٠١٠١٥٨٧١٩٠٦

٢٥- اضاف البطالمة صفه التقديس لحكامهم؟

-

٢٦- تقسيم امبراطورية الاسكندر بعد وفاته؟

-

٢٧- ضعف وانهيار دولة البطالمة في مصر؟

-

٢٨- اهميه مدينه الاسكندريه في عصر البطالمة؟

-

٢٩- اهميه مكتبة الاسكندريه في عصر البطالمة؟

-

٣٠- اقامه البطالمة معاهد الجمانزيوم والمسارح؟

-

٣١- فرض الرومان الحماية علي مصر في عصر البطالمة؟

-

٣٢- تفوق اليهود في الامتيازات الاجنبيه عن المصريين اثناء حكم الرومان لهم؟

-

٣٣- توتر العلاقه بين انطونيوس واكتافيوس؟

-

٣٤- ارتفاع مكانه الاسكندرية كميناء تجاري هام في عهد الرومان؟

-

٣٥- اقبال المصريين علي اعتناق المسيحيه؟

-

٣٦- اضطهاد الرومان للمسيحيين؟

-

٣٧- اجبار الرومان للمسيحيين علي تقديم قرابين للالهه؟

-

٣٨- انتشار الاديرة واقبال المسيحيين عليها؟

-

٣٩- تبذل الدوله جهودا كبيرة لبناء الانسان المصري؟

-

٤٠- ضرورة حصول الانسان علي حقوقه الحفاظ عليها؟

-
 دلل:-

١- احب المصريين القدماء التزيين؟

-

٢- لم تكن حياه المصريين القدماء كلها كد وكفاح؟

-

٣- تعددت الاعياد والاحتفالات عند المصريين القدماء؟

-

٤- تأثر المصري القديم بالبيئة المحيطه به في الكتابه الهيروغليفية؟

-

٥- كان لرجال الدين دورا في تطوير الكتابه المصريه القديمه؟

-

٦- تعددت انجازات المصريين القدماء في علم الفلك؟

-

٧- برع المصريون في تطبيق قواعد علم الحساب؟

-

٨- برع المصريون القدماء في مجال الطب؟

-

٩- نبغ المصريون القدماء في علم الفلك؟

-

١٠- تطور بناء المقابر في مصر الفرعونيّه؟

-

١١- بلغ فن النحت عند المصريين القدماء درجه كبيره من الانتقان؟

-

١٢- براعه المصريين القدماء في العمارة؟

-

١٣- سعي الاسكندر الاكبر لارضاء المصريين؟

-

١٤- حقق الاسكندر انتصارات متتاليه علي الفرس؟

-
١٥- اهتمام الاسكندر بالحضارة؟
-
١٦- قام الحكم البطلمي في مصر علي اساس الحكم المطلق؟
-
١٧- حرص البطالمة في مصر علي تحقيق نهضة ثقافيه ؟
-
١٨- كانت جامعه الاسكندريه اكبر دار للعلم في العالم القديم؟
-
١٩- ادراك البطالمة اهميه العقيدة الدينيه عند المصريين؟
-
٢٠- مرت دولة البطالمة في مصر بمرحلتين؟
-
٢١- حافظ البطالمة علي النظام السياسي والاداري للفراعنه؟
-
٢٢- اهتم البطالمة الاوائل بالزراعة؟
-
٢٣- اعتبر الملك البطلمي نفسه الصانع الاول؟
-
٢٤- مرت علاقه روما بدوله البطالمة في مصر بعده مراحل؟
-
٢٥- اهتم الرومان بشؤون الري؟
-
٢٦- كان المجتمع المصري في عهد الرومان مجتمع طبقي؟
-
٢٧- تمتعت مصر بمكانه متميزه كولايه رومانية؟
-
٢٨- سكنت مصر في عهد الرومان عناصر واجناس متعدده؟
-
٢٩- اختلفت نظرة الرومان عن البطالمة في الصناعات؟

..... -

٣٠- كانت سياسته الرومان صورة من سياسته الاستغلال الاقتصادي؟

..... -

٣١- تأثر الرومان بالعمارة المصريه القديمه؟

..... -

٣٢- كان للاديرة ادوار متعدده؟

..... -

٣٣- اصبحت مدرسه الاسكندريه منارة للعلم والعلماء؟

..... -

٣٤- تعمل الدوله علي تدريب الانسان علي كيفيه التواصل مع الاخرين وحل المشكلات؟

..... -

اكتب ماتشير اليه العبارات الاتيه:-

١- مجموعه من الافراد تجمعهم صفات ومصالح مشتركه(.....)

٢- مجموعه من العادات والتقاليد تمسك بها جميع طبقات المجتمع

المصري(.....)

٣- يمثل الطبقة الاولى في مصر الفرعوني(.....)

٤- مساكن تميزت بالبساطه وبنيت من حجرة او اثنتين(.....)

٥- مساكن تميزت بالاتساع والفخامه(.....)

٦- مساكن كانت متسعه وتحيط بها الحدائق الجميلة ومحلاه بالنقوش(.....)

٧- كتابه كانت تكتب من اعلي الي اسفل ومن اليمين لليسار(.....)

٨- كتابه عرفت بالخط المقدس(.....)

٩- كتابه عرفت بالخط الشعبي(.....)

١٠- كتابه هي عبارة عن رموز في الطبيعه انسان او حيوان(.....)

١١- تمثل المرحلة الاخيرة من الكتابه(.....)

١٢- ادب يتناول الحياه بعد الموت عقيدة البعث والخلود(.....)

١٣- نصوص دينيه سجلت علي جدران الاهرامات من الداخل لتكون عوناً للميت في الحياه

الاخري(.....)

١٤- كتابات دينيه دونت علي ورق البردي وتوضع مع الميت لتساعده في

الحساب(.....)

١٥- اناشيد وصلوات كان يحيي بها اخناتون الاله اتون (.....)

- ١٦- قصص خياليه غير واقعيه تهف للعبرة والعظه(.....)
- ١٧- ادب يتناول القصص الحقيقيه والخرافيه بقصد تقديم القدوة (.....)
- ١٨- ادب الحكم والنصائح والتربيه والاخلاق(.....)
- ١٩- ادب يمجّد اعمال الفرعون ويشيد بفضله علي الشعب(.....)
- ٢٠- مزيج بين الحضارة المصريه والحضارة الاغريقيه(.....)
- ٢١- دار للعلم يدرس فيها الطلاب العديد من التخصصات(.....)
- ٢٢- اول مكتبه حكوميه عرفها العالم القديم(.....)
- ٢٣- بناء مرتفع يتكون من طوابق عديده يستخدم لارشاد السفن(.....)
- ٢٤- معبد اقامه البطالمه في الاسكندريه للمعبود سراجيس(.....)
- ٢٥- مدينه اقامها البطالمه في مصر وحملت اسما اغريقيا(.....)
- ٢٦- مدينه احتلت المركز الثاني بعد روما في الحياه الثقافيه(.....)
- ٢٧- اسم اطلق علي عصر الامبراطور دقلديانوس بسبب كثرة اضطهاد
المسيحيين(.....)
- ٢٨- شكل من اشكال الظلم الذي عاني منه المسيحيون علي يد الرومان(.....)
- ٢٩- اعتزال الحياه والبعد عن متاعها والعيش في الصحراء (.....)
- ٣٠- الشخص الذي لديه من القيم والمهارات التي تساعد في المشاركه في حل قضايا
المجتمع(.....)
- ٣١- مجموعه الالتزامات الاخلاقيه والقانونيه علي السطوي السياسي والاقتصادي والثقافي
والاجتماعي(.....)

من هو :-

- ١- قام بتأسيس مدينه الاسكندريه(.....)
- ٢- اسس الدول البطلميه(.....)
- ٣- اخر ملوك البطالمه الاقوياء(.....)
- ٤- اول الملوك البطالمه الضعاف(.....)
- ٥- اخر ملوك البطالمه(.....)
- ٦- انشا مكتبة الاسكندريه(.....)
- ٧- بدا في عهده انشاء منارة الاسكندريه(.....)
- ٨- انتهى من بناء مكتبة الاسكندريه(.....)
- ٩- بعد وفاته قامت حرب اهليه في روما(.....)

- ١٠- تولي القسم الشرقي من الامبراطوريه الرومانيه(.....)
- ١١- تولي القسم الغربي من الامبراطوريه الرومانيه(.....)
- ١٢- خاضت معركة اكتيوم البحريه ضد اكتافيوس(.....)
- ١٣- خاض معركة اكتيوم البحريه ضد انطونيوس حليفته(.....)
- ١٤- بدا في عهده اضطهاد الرومان للمسيحيين(.....)
- ١٥- عرف عصره بعصر الشهداء(.....)
- ١٦- اول من مارس الرهبه الفرديه(.....)
- ١٧- اول من مارس الرهبه الجماعيه(.....)
- ١٨- اعترف بالمسيحيه ونقل عاصمه حكمه الي بيزنطه(.....)
- ١٩- اول من بشر بالمسيحيه في مصر(.....)
- ٢٠- تزوجت من القائد الروماني انطونيوس ()

عرف الجمل الاتيه:-

- ١- الحياه الاجتماعيه:-.....
- ٢- الطبقة الاجتماعيه:-.....
- ٣- منارة:-.....
- ٤- عباده سرايس:-.....
- ٥- المعابد:-.....
- ٦- التقويم الشمسي:-.....
- ٧- كتابه الهيروغليفية:-.....
- ٨- الادب الديني:-.....
- ٩- الادب التهذيبي:-.....
- ١٠- الادب القصصي:-.....
- ١١- كتاب الموتى:-.....
- ١٢- نصوص الاهرام:-.....
- ١٣- الحضارة الهيلينستيه:-.....
- ١٤- عصر الشهداء:-.....
- ١٥- الاضطهاد الروماني:-.....
- ١٦- الرهبه:-.....
- ١٧- المواطن الصالح:-.....

١٨- المواطنه:-.....

١٩- الحقوق:-.....

اسئلة متنوعه:-

١- ما علاقه بين : الطبقة الاجتماعيه وشكل المسكن عند المصريين القدماء؟

-

٢- حدد : اهميه وسائل التسلية والترفيه عند المصري القديم؟

-

٣- ما الاثر الناتج عن :تطبيق القانون علي كافة افراد المجتمع المصري؟

-

٤- حدد : موضوعات الغناء في مصر الفرعونيّه؟

-

٥- حدد : حقوق الالباء والامهات وواجباتهم؟

-

-

-

٦- حدد الدروس المستفاده من الاداب التهذيبيّه؟

-

٧- ما علاقه بين : الكهنة والكتابه المصريه؟

-

٨- ما الفرق بين المعابد الجنائزيه ومعابد الالهه مع ذكر امثله؟

-

٩- ماذا يحدث اذا: بني المصري القديم المقابر والمعابد من الطوب اللبن؟

-

١٠- لم يتأثر المصري القديم بالدين في مجال العلوم والعمارة؟

-

١١- ما علاقه بين:- علم التحنيط وفكرة البعث والخلود؟

-

١٢- اهتمام الفراعنه بالفلك والزراعه؟

-

المراجعة النهائية في الدراسات للصف الاول الاعدادي اعداد أ / مصطفى عاطف ٠١٠١٥٨٧١٩٠٦

١٣- ما النتائج المرتبه علي : براعه المصريين في علم الفلك؟

..... -

١٤- ما نتائج تقدم المصريين في علم الكيمياء؟

..... -

١٥- ما نتائج وفرة الثروات وتعددتها في مصر؟

..... -

١٦- زيارة الاسكندر لمعبد الاله امون في واحه سيوة؟

..... -

١٧- ماذا يحدث اذا:- لم يتمكن الاسكندر من القضاء علي تمرد المدن الاغريقيه؟

..... -

١٨- ماذا يحدث اذا:- اتبع الاسكندر سياسه الفرس في التعامل مع المصريين؟

..... -

١٩- ما الاثر الناتج عن: انتهاك الفرس للديانه المصريه؟

..... -

٢٠- ما العلاقه بين بطلميوس الاول وقوه مكانه مصر في عهده؟

..... -

٢١- ماذا يحدث اذا : لم يهتم البطالمه بالجانب الديني في مصر؟

..... -

٢٢- ماذا يحدث اذا: كان للاسكندر وريثا؟

..... -

٢٣- ما النتائج :- مقتل يوليوس قيصر حاكم روما؟

..... -

٢٤- ما النتائج: توتر العلاقه بين اكتافىوس وانطونيوس؟

..... -

٢٥- ما النتائج: معركة اكتيوم البحريه؟

..... -

٢٦- ما النتائج :- سوء معامله الرومان للمصريين؟

..... -

٢٧- ماذا يحدث اذا:- لم ينتصر اكتافىوس في اكتيوم البحريه؟

..... -

٢٨- ما النتائج: الفتح الاسلامي لمصر؟

..... -

٢٩- ما النتائج: اضطهاد الامبراطور دقلديانوس للمسيحية؟

..... -

٣٠- تولي قسطنطين حكم الامبراطورية الرومانية؟

..... -

س- صنف العناصر الآتية حسب نوع الادب التي ينتمى اليه كل عنصر ...؟

- ١- اناشيد اخناتون. ٢- قصة سنوحي. ٣- تعاليم الحكيم انى. ٤- تعاليم الحكيم بتاح.
٥- قصة البحار الغريق.
٦- تمجيد سنويرت الثالث. ٧- اسطورة ايزيس واوزيريس. ٨- نصوص الاهرام. ٩- كتاب الموتى.
١٠- الاساطير الدينية.

الادب الديني	الادب القصصي	الادب التهذيبي	ادب المديح

س٢- اذكر نوع الكتابة ...؟

الخط المقدس / الخط الرسمي للدولة	خط رجال الدين	الخط الشعبي	المرحلة الاخيرة من الكتابة
الكتابة.....	الكتابة.....	الكتابة.....	الكتابة.....

س٣- اذكر نوع الادب ...؟

الادب.....	يقدم القصص الحقيقية والخرافية بقصد تقديم الموعظة والقدرة الحسنة، كما يعكس القضايا السياسية والاجتماعية
الادب.....	ادب يمجّد اعمال فرعون ويشيد بفضله على الشعب.
الادب.....	ادب الحكم والنصائح والسلوك والتربية والاخلاق.
الادب.....	أدب يتناول الحياة بعد الموت، وعقيدة البعث والخلود.

صنف اعمال المصريين الآتية حسب انتمائها الى العلوم الموجودة بالجدول ...؟

- ١- تقدير كمية المحاصيل الزراعية. ٢- معرفة التقويم الشمسي. ٣- صناعة الالوان. ٤- بناء الاهرامات.
٥- معرفة التحنيط. ٦- صناعة الاصباغ. ٧- حصر غنائم الحروب. - معرفة مواقع النجوم و الكواكب.
٩- تنظيم مياه النيل. ١٠- معرفة التخصصات المختلفة التي تعالج المرضى. ١١- تشخيص الامراض وطرق علاجها.

المراجعة النهائية في الدراسات للصف الاول الاعدادي اعداد أ / مصطفى عاطف ٠١٠١٥٨٧١٩٠٦

- ١٢ - معرفة الاشكال الهندسية (المربع والمستطيل) . ١٣ - صناعة العقاقير والادوية من الاعشاب . ١٤ - تقسيم اليوم الي ٢٤ ساعة .
- ١٥ - معرف مواسم الزراعة . ١٦ - قياس مساحة الاراضي الزراعية عن طريق وحدات القياس (القدم – الذراع) .
- ١٧ - تحقيق تعامد الشمس مرتين علي وجه تمثال رمسيس الثاني يوم مولده ويوم توليه العرش . ١٨ - تنظيم المعاملات التجارية .
- ١٩ - تسجيل رواتب الموظفين والجنود . ٢٠ - ايام النسئ . ٢١ - تقسيم السنة الي ثلاثة فصول تتناسب مع الدور الزراعية .

العلم	انجازات المصريين في هذا العلم
الفلك	
الحساب	
الهندسة	
الطب	
الكيمياء	

رتب تطور بناء المقابر عند المصريين القدماء من الاقدم الي الاحدث ...؟

- ((هرم كامل، مثل : الاهرامات الثلاثة - حفرة تحت سطح الارض تتواري فيها جثث الموتى))
- ((هرم مدرج مكون من ست مصاطب، مثل : هرم زوسر المدرج - حجرة او حجرتين تحت سطح الارض وفوقها مصطبة))

١ - المرحلة الاولى	
٢ - المرحلة الثانية	
٣ - المرحلة الثالثة	
٤ - المرحلة الرابعة	

س٤ - صنف المعابد الاتية الي المعابد الجنائزية او معابد الالهة ...؟

- ((معبد الملكة حتشبسوت بالدير البحري غرب الاقصر - معبد الكرنك - معبد ابو سمبل - معبد الرمسيوم (رمسيس الثاني - معبد الكرنك))

المعابد الجنائزية	معابد الالهة
الغرض منها اقامة الصلوات وطقوس الجنازة علي المتوفي	الغرض منها هدفها اقامة الشعائر وتقديم القرابين للالهة
١ -	١ -
.....
٢ -	٢ -
.....
.....	٣ -

المراجعة النهائية في الدراسات للصف الاول الاعدادي اعداد أ / مصطفى عاطف ٠١٠١٥٨٧١٩٠٦

.....	
-------	--